

МИНОБРНАУКИ РОССИИ

**Филиал федерального государственного бюджетного образовательного
учреждения высшего образования
«ВЛАДИВОСТОКСКИЙ ГОСУДАРСТВЕННЫЙ УНИВЕРСИТЕТ»
в г. Артеме
(ФИЛИАЛ ФГБОУ ВО «ВВГУ» В Г. АРТЕМЕ)**

УТВЕРЖДАЮ

Зам. директора филиала
ФГБОУ ВО «ВВГУ» в г. Артеме



В.В. Неслюзов

**РАБОЧАЯ ПРОГРАММА
УЧЕБНОЙ ДИСЦИПЛИНЫ**

ЕН.01 Элементы высшей математики

программы подготовки специалистов среднего звена
09.02.06 Сетевое и системное администрирование


Форма обучения: *очная*

Артем 2022 г.

Рабочая программа учебной дисциплины ЕН.01 «Элементы высшей математики» разработана на основе Федерального государственного образовательного стандарта для специальности среднего профессионального образования 09.02.06 «Преподавание в начальных классах»

Разработчик(и): *Бажина А.С., преподаватель*

Утверждена на заседании цикловой методической комиссии по профилю математических и информационных дисциплин, протокол № 1 от 01.10.2022 г

Председатель ЦМК  А.С.Бажина
подпись

СОДЕРЖАНИЕ

- 1. ОБЩАЯ ХАРАКТЕРИСТИКА ПРОГРАММЫ УЧЕБНОЙ ДИСЦИПЛИНЫ**
- 2. СТРУКТУРА И СОДЕРЖАНИЕ УЧЕБНОЙ ДИСЦИПЛИНЫ**
- 3. УСЛОВИЯ РЕАЛИЗАЦИИ УЧЕБНОЙ ДИСЦИПЛИНЫ**
- 4. КОНТРОЛЬ И ОЦЕНКА РЕЗУЛЬТАТОВ ОСВОЕНИЯ УЧЕБНОЙ ДИСЦИПЛИНЫ**

1. ОБЩАЯ ХАРАКТЕРИСТИКА ПРОГРАММЫ УЧЕБНОЙ ДИСЦИПЛИНЫ

1.1 Место дисциплины в структуре основной образовательной программы

Учебная дисциплина ЕН.01 Элементы высшей математики является частью математического и общего естественнонаучного учебного цикла основной образовательной программы (далее ООП) в соответствии с ФГОС СПО по специальности 09.02.06 Сетевое и системное администрирование.

1.2 Цель и планируемые результаты освоения дисциплины

По итогам освоения дисциплины, обучающиеся должны продемонстрировать результаты обучения, соотнесённые с результатами освоения ООП СПО, приведенные в таблице.

Код ПК, ОК	Умения	Знания
ОК 01-ОК5, ОК 09, ОК10	Выполнять операции над матрицами и решать системы линейных уравнений. Определять предел последовательности, предел функции. Применять методы дифференциального и интегрального исчисления. Использовать методы дифференцирования и интегрирования для решения практических задач. Решать дифференциальные уравнения. Пользоваться понятиями теории комплексных чисел.	Основы математического анализа, линейной алгебры и аналитической геометрии. Основы дифференциального и интегрального исчисления. Основы теории комплексных чисел.

2. СТРУКТУРА И СОДЕРЖАНИЕ УЧЕБНОЙ ДИСЦИПЛИНЫ

2.1. Объем учебной дисциплины и виды учебной работы

Вид учебной работы	Объем часов
Объем образовательной программы учебной дисциплины	85
в том числе:	
– теоретическое обучение	51
– практические занятия	34
– лабораторные занятия	не предусмотрено
– курсовая работа (проект)	не предусмотрено
– самостоятельная работа	не предусмотрено
– консультации	не предусмотрено
– промежуточная аттестация –	Дифференцированный зачет

2.2. Тематический план и содержание учебной дисциплины «ЕН.01 ЭЛЕМЕНТЫ ВЫСШЕЙ МАТЕМАТИКИ»

Наименование разделов и тем	Содержание учебного материала и формы организации деятельности обучающихся	Объём в часах	Коды компетенций, формированию которых способствует элемент программы
1	2	3	4
Тема 1. Теория пределов	Содержание учебного материала	6	ОК 01, ОК 02, ОК 03, ОК 04, ОК 05, ОК 09, ОК 10
	1. Числовые последовательности. Предел функции. Свойства пределов		
	2. Замечательные пределы, раскрытие неопределенностей		
	3. Односторонние пределы, классификация точек разрыва		
	Тематика практических занятий и лабораторных работ	<i>Не предусмотрено</i>	
	Самостоятельная работа обучающихся	<i>Не предусмотрено</i>	
Тема 2. Дифференциальное исчисление функции одной действительной переменной	Содержание учебного материала	4	ОК 01, ОК 02, ОК 03, ОК 04, ОК 05, ОК 09, ОК 10
	1. Определение производной		
	2. Производные и дифференциалы высших порядков		
	Тематика практических занятий и лабораторных работ	4	
	1. Производная сложной функции		
	2. Полное исследование функции. Построение графиков		
Самостоятельная работа обучающихся	<i>Не предусмотрено</i>		
Тема 3. Интегральное исчисление функции одной действительной	Содержание учебного материала	2	ОК 01, ОК 02, ОК 03, ОК 04, ОК 05, ОК 09, ОК 10
	1. Неопределенный и определенный интеграл и его свойства		
	Тематика практических занятий и лабораторных работ	4	
	Несобственные интегралы с бесконечными пределами интегрирования		

<i>переменной</i>	Вычисление определенных интегралов. Применение определенных интегралов		
	<i>Самостоятельная работа обучающихся</i>	<i>Не предусмотрено</i>	
Тема 4. <i>Дифференциальное исчисление</i>	Содержание учебного материала	4	<i>OK 01, OK 02, OK 03, OK 04, OK 05, OK 09,</i>
	1. Предел и непрерывность функции нескольких переменных		
	2. Частные производные. Дифференцируемость функции нескольких переменных		

<i>функции нескольких действительны х переменных</i>	Тематика практических занятий и лабораторных работ	4	OK 10
	Частные производные. Дифференцируемость функции нескольких переменных		
	Производные высших порядков и дифференциалы высших порядков		
	Самостоятельная работа обучающихся	Не предусмотрено	
Тема 5. Интегральное исчисление функции нескольких действительны х переменных	Содержание учебного материала	4	OK 01, OK 02, OK 03, OK 04, OK 05, OK 09, OK 10
	1. Двойные интегралы и их свойства		
	2. Повторные интегралы		
	Тематика практических занятий и лабораторных работ	2	
	Приложение двойных интегралов		
Самостоятельная работа обучающихся	Не предусмотрено		
Тема 6. Теория рядов	Содержание учебного материала	6	OK 01, OK 02, OK 03, OK 04, OK 05, OK 09, OK 10
	1. Определение числового ряда. Свойства рядов		
	2. Функциональные последовательности и ряды		
	3. Исследование сходимости рядов		
	Тематика практических занятий и лабораторных работ	Не предусмотрено	
Самостоятельная работа обучающихся	Не предусмотрено		
Тема 7. Обыкновенные дифференциаль ные уравнения	Содержание учебного материала	4	OK 01, OK 02, OK 03, OK 04, OK 05, OK 09, OK 10
	1. Общее и частное решение дифференциальных уравнений		
	2. Дифференциальные уравнения 2-го порядка		
	Тематика практических занятий и лабораторных работ	4	
	Дифференциальные уравнения 1-го порядка		
	Решение дифференциальных уравнений второго порядка.		
Самостоятельная работа обучающихся	Не предусмотрено		
Тема 8. Матрицы и определители	Содержание учебного материала	6	OK 01, OK 02, OK 03, OK 04, OK 05, OK 09, OK 10
	1. Понятие Матрицы		
	2. Действия над матрицами		
	3. Определитель матрицы		
	4. Обратная матрица. Ранг матрицы		
Тематика практических занятий и лабораторных работ	4		

	Действия над матрицами		
	Вычисление определителей		
	<i>Самостоятельная работа обучающихся</i>	<i>Не предусмотрено</i>	
Тема 9. Системы линейных уравнений	<i>Содержание учебного материала</i>	2	OK 01, OK 02, OK 03, OK 04, OK 05, OK 09, OK 10
	1. Основные понятия системы линейных уравнений		
	<i>Тематика практических занятий и лабораторных работ</i>	4	
	Правило решения произвольной системы линейных уравнений		
	Решение системы линейных уравнений методом Гаусса		
	<i>Самостоятельная работа обучающихся</i>	<i>Не предусмотрено</i>	
Тема 10. Векторы и действия с ними	<i>Содержание учебного материала</i>	6	OK 01, OK 02, OK 03, OK 04, OK 05, OK 09, OK 10
	1. Определение вектора. Операции над векторами, их свойства		
	2. Вычисление скалярного, смешанного, векторного произведения векторов		
	3. Приложения скалярного, смешанного, векторного произведения векторов		
	<i>Тематика практических занятий и лабораторных работ</i>	2	
	Приложения скалярного, смешанного, векторного произведения векторов		
	<i>Самостоятельная работа обучающихся</i>	<i>Не предусмотрено</i>	
Тема 11. Аналитическая геометрия на плоскости	<i>Содержание учебного материала</i>	4	OK 01, OK 02, OK 03, OK 04, OK 05, OK 09, OK 10
	1. Уравнение прямой на плоскости		
	2. Угол между прямыми. Расстояние от точки до прямой		
	<i>Тематика практических занятий и лабораторных работ</i>	4	
	Линии второго порядка на плоскости. Уравнение окружности, эллипса, гиперболы и параболы на плоскости		
	Обобщающее занятие по теме «Аналитическая геометрия на плоскости»		
	<i>Самостоятельная работа обучающихся</i>	<i>Не предусмотрено</i>	
Тема 12. Теория комплексные числа	<i>Содержание учебного материала</i>	2	OK 01-OK 05, OK 09, OK 10
	<i>Тематика практических занятий и лабораторных работ</i>	2	
	Комплексные числа.		
	<i>Самостоятельная работа обучающихся</i>	<i>Не предусмотрено</i>	
Зачет		1	
Всего:		85	

3. УСЛОВИЯ РЕАЛИЗАЦИИ ПРОГРАММЫ УЧЕБНОЙ ДИСЦИПЛИНЫ «ЕН.01 ЭЛЕМЕНТЫ ВЫСШЕЙ МАТЕМАТИКИ»

3.1 Материально-техническое обеспечение

Для реализации программы учебной дисциплины предусмотрены следующие специальные помещения:

Кабинет математических дисциплин, оснащенный оборудованием: количество посадочных мест – 30, стол для преподавателя 1 шт., стул для преподавателя 1 шт., монитор облачный 23" LG 1 шт., проектор Casio XJ 1 шт., звуковые колонки defender 1 шт., экран 150*150 см 1 шт., доска маркерная меловая комбинированная 1 шт., дидактические пособия.

Программное обеспечение: 1. Microsoft WIN VDA PerDevice AllNg (ООО "Акцент", Договор №764 от 14.10.19, лицензия № V8953642, срок с 01.11.19 по 31.10.20);
2. Microsoft Office Pro Plus Educational AllNg (ООО "Акцент", Договор №765 от 14.10.19, лицензия № V8953642, срок с 01.11.19 по 31.10.20);
3. Yandex (свободное);
4. Google Chrome (свободное);
5. Internet Explorer (свободное)

3.2. Информационное обеспечение реализации программы

Для реализации программы библиотечный фонд имеет печатные и/или электронные образовательные и информационные ресурсы, рекомендуемых для использования в образовательном процессе

Основная литература

1. Гончаренко, В.М. Элементы высшей математики : учебник / Гончаренко В.М., Липагина Л.В., Рылов А.А. — Москва : КноРус, 2020. — 363 с. — (СПО). — URL: <https://book.ru/book/935921> (дата обращения: 02.03.2020). — Текст : электронный.
2. Шипачев, В. С. Высшая математика : учебник / В.С. Шипачев. — Москва : ИНФРА-М, 2019. — 479 с. Текст : электронный. - URL: <https://new.znanium.com/catalog/product/990716> (дата обращения: 02.03.2020)
3. Шипачев, В. С. Задачник по высшей математике : учеб. пособие / В.С. Шипачев. — 10-е изд., стереотип. — Москва : ИНФРА-М, 2020. — 304 с. Текст : электронный. - URL: <https://new.znanium.com/catalog/product/1042456> (дата обращения: 02.03.2020)

Дополнительная литература

1. Богомолов, Н. В. Алгебра и начала анализа : учебное пособие для среднего профессионального образования / Н. В. Богомолов. — М. : Юрайт, 2020. — 240 с. — Текст : электронный // ЭБС Юрайт [сайт]. — URL: <https://urait.ru/bcode/449037> (дата обращения: 02.03.2020).
2. Богомолов, Н. В. Математика. Задачи с решениями в 2 т : учебное пособие для среднего профессионального образования / Н. В. Богомолов. — 2-е изд., испр. и доп. — М.: Юрайт, 2016. — 647 с. — Текст : электронный // ЭБС Юрайт [сайт]. — URL: <https://urait.ru/bcode/386520> (дата обращения: 02.03.2020).

3. Математика. Практикум : учебное пособие для среднего профессионального образования / О. В. Татарников [и др.]. — М.: Юрайт, 2019. — 285 с. — Текст : электронный // ЭБС Юрайт [сайт]. — URL: <https://urait.ru/bcode/433902> (дата обращения: 02.03.2020).

4. КОНТРОЛЬ И ОЦЕНКА РЕЗУЛЬТАТОВ ОСВОЕНИЯ УЧЕБНОЙ ДИСЦИПЛИНЫ «ЕН.01 ЭЛЕМЕНТЫ ВЫСШЕЙ МАТЕМАТИКИ»

<i>Результаты обучения</i>	<i>Критерии оценки</i>	<i>Методы оценки</i>
<i>Перечень знаний, осваиваемых в рамках дисциплины:</i>	«Отлично» - теоретическое содержание курса освоено полностью, без пробелов, умения сформированы, все предусмотренные программой учебные задания выполнены, качество их выполнения оценено высоко.	устный опрос, тестирование, выполнение индивидуальных заданий различной сложности
Основы математического анализа, линейной алгебры и аналитической геометрии.	«Хорошо» - теоретическое содержание курса освоено полностью, без пробелов, некоторые умения сформированы недостаточно, все предусмотренные программой учебные задания выполнены, некоторые виды заданий выполнены с ошибками.	оценка ответов в ходе эвристической беседы, тестирование
Основы дифференциального и интегрального исчисления.		оценка ответов в ходе эвристической беседы,
Основы теории комплексных чисел.	«Удовлетворительно» - теоретическое содержание курса освоено частично, но пробелы не носят существенного характера, необходимые умения работы с освоенным материалом в основном сформированы, большинство предусмотренных программой обучения учебных заданий выполнено, некоторые из выполненных заданий содержат ошибки.	подготовка презентаций
<i>Перечень умений, осваиваемых в рамках дисциплины:</i>		устный опрос, тестирование,
Выполнять операции над матрицами и решать системы линейных уравнений.		демонстрация умения выполнять операции над матрицами и решать системы линейных уравнений в индивидуальных заданиях
Определять предел последовательности, предел функции.		устный опрос, тестирование,
Применять методы дифференциального и интегрального исчисления.	«Неудовлетворительно» - теоретическое содержание курса не освоено, необходимые умения не сформированы, выполненные учебные задания содержат грубые ошибки.	демонстрация умения решать задачи, используя уравнения прямых и кривых второго порядка на плоскости
Использовать методы дифференцирования и интегрирования для		

<p>решения практических задач.</p> <p>Решать дифференциальные уравнения.</p> <p>Пользоваться понятиями теории комплексных чисел.</p>		<p>устный опрос, тестирование,</p> <p>демонстрация умения применять методы дифференциального и интегрального исчисления при решении задач</p>
		<p>устный опрос, тестирование,</p> <p>демонстрация умения решать дифференциальные уравнения</p>
		<p>устный опрос, тестирование,</p> <p>демонстрация умения пользоваться понятиями теории комплексных чисел при выполнении индивидуальных заданий</p>

МИНОБРНАУКИ РОССИИ

**Филиал федерального государственного бюджетного образовательного
учреждения высшего образования
«ВЛАДИВОСТОКСКИЙ ГОСУДАРСТВЕННЫЙ УНИВЕРСИТЕТ»
в г. Артеме
(ФИЛИАЛ ФГБОУ ВО «ВВГУ» В Г. АРТЕМЕ)**

КОНТРОЛЬНО-ОЦЕНОЧНЫЕ СРЕДСТВА
для проведения текущего контроля и промежуточной
аттестации по учебной дисциплине

ЕН.01 Элементы высшей математики

программы подготовки специалистов среднего
звена
09.02.06 Сетевое и системное администрирование


Форма обучения: *очная*

Артем 2022

Контрольно-оценочные средства для проведения текущего контроля и промежуточной аттестации по учебной дисциплине *ЕН.01 Элементы высшей математики* в соответствии с требованиями ФГОС СПО по специальности 09.02.06 «**Сетевое и системное администрирование**», утвержденного приказом Минобрнауки РФ от 09 декабря 2016 г., №1548, примерной образовательной программой, рабочей программой учебной дисциплины.

Разработчик(и): *Бажина А.С., преподаватель*

Утверждена на заседании цикловой методической комиссии по профилю математических и информационных дисциплин, протокол № 1 от 01.10.2022 г

Председатель ЦМК  А.С.Бажина
подпись

1 Общие положения

Контрольно-оценочные средства (далее – КОС) предназначены для контроля и оценки образовательных достижений обучающихся, освоивших программу учебной дисциплины ЕН.01 «Элементы высшей математики»

КОС включают в себя контрольные материалы для проведения текущего контроля успеваемости и промежуточной аттестации по дисциплине, которая проводится в форме дифференцированного зачёта.

2 Планируемые результаты обучения по дисциплине, обеспечивающие результаты освоения образовательной программы

Код ПК, ОК	Умения	Знания
<i>ОК 01-ОК5, ОК9-ОК10</i>	Выполнять операции над матрицами и решать системы линейных уравнений. Определять предел последовательности, предел функции. Применять методы дифференциального и интегрального исчисления. Использовать методы дифференцирования и интегрирования для решения практических задач. Решать дифференциальные уравнения. Пользоваться понятиями теории комплексных чисел.	Основы математического анализа, линейной алгебры и аналитической геометрии. Основы дифференциального и интегрального исчисления. Основы теории комплексных чисел.

3 Соответствие оценочных средств контролируемым результатам обучения

Средства, применяемые для оценки уровня теоретической подготовки

Наименование элемента умений или знаний	Виды аттестации	
	Текущий контроль	Промежуточная аттестация
У 1. выполнять операции над матрицами и решать системы линейных уравнений;	+	+
У 2. применять методы дифференциального и интегрального исчисления;	+	+
У 3. решать дифференциальные уравнения;	+	+
З 1. Знание основ математического анализа, аналитической геометрии, линейной алгебры	+	+
З 2. Знание основы дифференциального и интегрального исчисления	+	+

4 Распределение типов контрольных заданий по элементам знаний и умений.

Содержание учебного материала по программе УД	Тип контрольного задания				
	У1	У2	У3	З1	З2
Тема Элементы линейной алгебры					
Матрицы	расчетное задание 5.1				
Определители	расчетное задание 5.3			устный ответ 5.2	
Матрицы и определители	расчетное задание 5.1			расчетное задание 5.1	
Тема Векторы и действия над ними					
Векторы и действия над ними	расчетное задание 5.3			расчетное задание 5.5	

Тема Аналитическая геометрия на плоскости					
Аналитическая геометрия на плоскости	расчетное задание 5.4				
Тема Дифференциальное исчисление					
Производная и дифференциал	расчетное задание 5.6			устный ответ 5.7	расчетное задание 5.6
Функции двух переменных	расчетное задание 5.8				
Тема Интегральное исчисление					
Неопределенный интеграл	расчетное задание 5.9			устный ответ 5.10	
Определенный интеграл	расчетное задание 5.11				расчетное задание 5.11
Интегральное исчисление функции двух переменных					
Тема Дифференциальные уравнения					
Дифференциальные уравнения 1 порядка		расчетное задание 5.13			устный ответ 5.14
Дифференциальные уравнения 2 порядка		расчетное задание 5.13			устный ответ 5.14
Дифференциальные уравнения в науке и технике					
Тема Теория пределов					
Теория пределов					устный ответ 5.15

4 Перечень оценочных средств

№ п/п	Форма проведения оценки результатов освоения дисциплины	Краткая характеристика форм оценки результатов освоения дисциплины	Представление оценочного средства в фонде
1	Доклад, сообщение	Продукт самостоятельной работы студента, представляющий собой публичное выступление по представлению полученных результатов решения определенной учебно-	Темы докладов, сообщений

		практической, учебно-исследовательской или научной темы	
2	Собеседование	Средство контроля, организованное как специальная беседа преподавателя с обучающимся на темы, связанные с изучаемой дисциплиной, и рассчитанное на выяснение объема знаний обучающегося по определенному разделу, теме, проблеме и т.п.	Вопросы по темам/разделам дисциплины
3	Тест	Система стандартизированных заданий, позволяющая автоматизировать процедуру измерения уровня знаний и умений обучающегося.	Фонд тестовых заданий

5. Структура контрольного задания

5.1. Расчетное задание

5.1.1. Текст задания

Вариант 1

1. Найти матрицу $C=A+3B$, если $A = \begin{pmatrix} 2 & 3 & 0 \\ -2 & 1 & 8 \\ 2 & 4 & 3 \end{pmatrix}$, $B = \begin{pmatrix} -1 & 0 & 3 \\ 2 & 4 & 1 \\ 1 & 3 & 0 \end{pmatrix}$.

2. Решить систему линейных уравнений методом обратной матрицы.
3. Решить систему линейных уравнений по формулам Крамера.
4. Решить систему линейных уравнений методом Гаусса.

$$\begin{cases} x_1 + 2x_2 - x_3 = 1, \\ 2x_1 - x_2 + x_3 = 5, \\ 3x_1 + 2x_2 + x_3 = 7. \end{cases}$$

| 1 2 3

Вариант 2

1. Найти матрицу $C=2A-B$, если $A = \begin{pmatrix} 2 & 3 & 0 \\ -2 & 1 & 8 \\ 2 & 4 & 3 \end{pmatrix}$, $B = \begin{pmatrix} -1 & 0 & 3 \\ 2 & 4 & 1 \\ 1 & 3 & 0 \end{pmatrix}$.

2. Решить систему линейных уравнений методом обратной матрицы.
3. Решить систему линейных уравнений по формулам Крамера.
4. Решить систему линейных уравнений методом Гаусса.

$$\begin{cases} x_1 - x_2 + 2x_3 = -2, \\ x_1 + 2x_2 - x_3 = 7, \\ 2x_1 + x_2 - 3x_3 = 5. \end{cases}$$

| 1 2 3

Вариант 3

1. Найти матрицу $C=3A+B$, если $A = \begin{pmatrix} 2 & 3 & 0 \\ -2 & 1 & 8 \\ 2 & 4 & 3 \end{pmatrix}$, $B = \begin{pmatrix} -1 & 0 & 3 \\ 2 & 4 & 1 \\ 1 & 3 & 0 \end{pmatrix}$.

2. Решить систему линейных уравнений методом обратной матрицы.
3. Решить систему линейных уравнений по формулам Крамера.
4. Решить систему линейных уравнений методом Гаусса.

$$\begin{cases} x_1 + 3x_2 - 2x_3 = 4, \\ x_1 + 4x_2 - x_3 = 7, \\ 2x_1 + x_2 + x_3 = 3. \end{cases}$$

| 1 2 3

Вариант 4

1. Найти матрицу $C=A-4B$, если $A = \begin{pmatrix} 2 & 3 & 0 \\ -2 & 1 & 8 \\ 2 & 4 & 3 \end{pmatrix}$, $B = \begin{pmatrix} -1 & 0 & 3 \\ 2 & 4 & 1 \\ 1 & 3 & 0 \end{pmatrix}$.

2. Решить систему линейных уравнений методом обратной матрицы.
3. Решить систему линейных уравнений по формулам Крамера.
4. Решить систему линейных уравнений методом Гаусса.

$$\begin{cases} x_1 + 2x_2 - x_3 = 3, \\ x_1 + 3x_2 + x_3 = 6, \\ 2x_1 - x_2 + x_3 = 4. \end{cases}$$

Вариант 5

1. Найти матрицу $C=4A-B$, если $A = \begin{pmatrix} 2 & 3 & 0 \\ -2 & 1 & 8 \\ 2 & 4 & 3 \end{pmatrix}$, $B = \begin{pmatrix} -1 & 0 & 3 \\ 2 & 4 & 1 \\ 1 & 3 & 0 \end{pmatrix}$.

2. Решить систему линейных уравнений методом обратной матрицы.
3. Решить систему линейных уравнений по формулам Крамера.
4. Решить систему линейных уравнений методом Гаусса.

$$\begin{cases} x_1 + x_2 - 3x_3 = 2, \\ x_1 + 2x_2 + x_3 = 3, \\ 3x_1 + 7x_2 + x_3 = 10. \end{cases}$$

Вариант 6

1. Найти матрицу $C=A+2B$, если $A = \begin{pmatrix} 2 & 3 & 0 \\ -2 & 1 & 8 \\ 2 & 4 & 3 \end{pmatrix}$, $B = \begin{pmatrix} -1 & 0 & 3 \\ 2 & 4 & 1 \\ 1 & 3 & 0 \end{pmatrix}$.

2. Решить систему линейных уравнений методом обратной матрицы.
3. Решить систему линейных уравнений по формулам Крамера.
4. Решить систему линейных уравнений методом Гаусса.

$$\begin{cases} x_1 + x_2 + x_3 = 3, \\ 2x_1 - x_2 + x_3 = 1, \\ 2x_1 + 3x_2 - x_3 = 1. \end{cases}$$

5.1.2. Время на выполнение: 60 мин.

5.1.3. Перечень объектов контроля и оценки

Наименование объектов контроля и оценки	Основные показатели оценки результата	Оценка
У 1. выполнять операции над матрицами и решать системы линейных уравнений;	<ul style="list-style-type: none"> - Выполнение действий над матрицами - Вычисление определителей - Решение систем линейных уравнений методом обратной матрицы - Решение систем линейных уравнений по формулам Крамера - Решение систем линейных уравнений методом Гаусса 	4 балла

3 1. линейной алгебры и аналитической геометрии,	- Перечисление последовательности действий при решении систем линейных уравнений методом обратной матрицы, по формулам Крамера, методом Гаусса	
--	--	--

За правильный ответ на вопросы или верное решение задачи выставляется положительная оценка – 1 балл.

За неправильный ответ на вопросы или неверное решение задачи выставляется отрицательная оценка – 0 баллов.

5.2. Устный ответ

5.2.1. Текст задания

1. Дать определение вектора.
2. Дать определение проекции вектора на ось и перечислить ее свойства.
3. Дать определение скалярного произведения векторов и перечислить его свойства.
4. Дать определение векторного произведения векторов и перечислить его свойства.
5. Дать определение смешанного произведения векторов и перечислить его свойства.

5.2.2. Время на выполнение: 20 мин.

5.2.3. Перечень объектов контроля и оценки

Наименование объектов контроля и оценки	Основные показатели оценки результата	Оценка
3 2. Знание основных методов математического анализа, аналитической геометрии, линейной алгебры, элементарной теории вероятностей	- Формулировка определений и перечисление свойств скалярного, векторного и смешанного произведения векторов	5 баллов

За правильный ответ на вопросы или верное решение задачи выставляется положительная оценка – 1 балл.

За неправильный ответ на вопросы или неверное решение задачи выставляется отрицательная оценка – 0 баллов.

5.3. Расчетное задание

5.3.1. Текст задания

Вариант 1

Даны векторы $a(9;-2;1)$ и $b(4;3;0)$ (для № 1-5).

1. Найти $\vec{a} \cdot \vec{b}$.

2. Найти $(\vec{a} \wedge \vec{b})$.
3. Найти $a^{\vec{2}}$.
4. Найти $|\vec{b}|$.
5. Найти координаты векторов $\vec{c} = \vec{a} + b$, $d = \vec{a} - b$, $f = -3\vec{a}$.
6. В прямоугольной декартовой системе координат построить точки $A(0; 0)$, $B(3; -4)$, $C(-3; 4)$. Определить расстояние между точками A и B , B и C , A и C .
7. Построить точки, заданные полярными координатами: $A(2; \pi/2)$, $B(3; \pi/4)$, $C(3; 3\pi/4)$.
8. Даны точки в полярной системе координат $A(2; \pi/4)$, $B(4; \pi/2)$. Найти их прямоугольные координаты.

Вариант 2

Даны векторы $a(-3; 2; 1)$ и $b(3; 0; 4)$ (для № 1-5).

1. Найти $\vec{a} \cdot \vec{b}$.
2. Найти $(\vec{a} \wedge \vec{b})$.
3. Найти $a^{\vec{2}}$.
4. Найти $|\vec{b}|$.
5. Найти координаты векторов $\vec{c} = \vec{a} + b$, $d = \vec{a} - b$, $f = -3\vec{a}$.
6. В прямоугольной декартовой системе координат построить точки $A(0; 0)$, $C(-3; 4)$, $D(-2; 2)$, $E(10; -3)$. Определить расстояние между точками C и D , A и D , D и E .
7. Построить точки, заданные полярными координатами: $A(4; 0)$, $B(2; 3\pi/2)$, $C(3; \pi)$.
8. Даны точки в прямоугольной системе координат $A(0; 5)$, $B(-3; 0)$, $C(\sqrt{3}; 1)$. Найти их полярные координаты.

5.3.2. Время на выполнение: 70 мин.

5.3.3. Перечень объектов контроля и оценки

Наименование объектов контроля и оценки	Основные показатели оценки результата	Оценка
У 1. Умение решать задачи математического анализа, линейной алгебры и аналитической геометрии	- Выполнение действий над векторами - Нахождение скалярного, векторного и смешанного произведения векторов - Построение точек и нахождение их координат в прямоугольной декартовой и полярной системах координат	8 баллов

За правильный ответ на вопросы или верное решение задачи выставляется положительная оценка – 1 балл.

За неправильный ответ на вопросы или неверное решение задачи выставляется отрицательная оценка – 0 баллов.

5.4. Расчетное задание

5.4.1. Текст задания

Вариант 1

1. Вычислить предел функции:

$$\lim_{x \rightarrow 3} \frac{x^2 - 9}{x^2 - 8x + 15}.$$

2. Вычислить предел функции:

$$\lim_{x \rightarrow 2} \frac{x + 5}{3x - 6}.$$

3. Вычислить предел функции:

$$\lim_{x \rightarrow 0} \frac{\sin 17x}{\sin 12x}.$$

4. Вычислить предел функции:

$$\lim_{x \rightarrow \infty} \left(1 + \frac{7}{x} \right)^{\frac{3}{x}}.$$

Вариант 2

1. Вычислить предел функции:

$$\lim_{x \rightarrow 4} \frac{x^2 + x - 20}{x - 16}.$$

2. Вычислить предел функции:

$$\lim_{x \rightarrow 2} \frac{3x + 6}{2x - 4}.$$

3. Вычислить предел функции:

$$\lim_{x \rightarrow 0} \frac{\sin 7x}{\sin 13x}.$$

4. Вычислить предел функции:

$$\lim_{x \rightarrow \infty} \left(1 + \frac{12}{x} \right)^{\frac{4}{x}}.$$

Вариант 3

1. Вычислить предел функции:

$$\lim_{x \rightarrow 7} \frac{x^2 - 49}{x^2 - 5x - 14}.$$

2. Вычислить предел функции:

$$\lim_{x \rightarrow 3} \frac{x^2 + 4}{2x - 6}.$$

3. Вычислить предел функции:

$$\lim_{x \rightarrow 0} \frac{\sin 9x}{\sin 4x}.$$

4. Вычислить предел функции:

$$\lim_{x \rightarrow \infty} \left(1 + \frac{15}{x} \right)^{5x}.$$

Вариант 4

1. Вычислить предел функции:

$$\lim_{x \rightarrow 5} \frac{x^2 - 12x + 35}{x - 25}.$$

2. Вычислить предел функции:

$$\lim_{x \rightarrow 5} \frac{x^2 - 1}{2x - 10}.$$

3. Вычислить предел функции:

$$\lim_{x \rightarrow 0} \frac{\sin 8x}{\sin 19x}.$$

4. Вычислить предел функции:

$$\lim_{x \rightarrow \infty} \left(1 + \frac{4}{x} \right)^{2x}.$$

Вариант 5

1. Вычислить предел функции:

$$\lim_{x \rightarrow 6} \frac{x^2 - 3x - 18}{x - 36}.$$

2. Вычислить предел функции:

$$\lim_{x \rightarrow 4} \frac{2x - 3}{3x - 12}.$$

3. Вычислить предел функции:

$$\lim_{x \rightarrow 0} \frac{\sin 5x}{\sin 14x}.$$

4. Вычислить предел функции:

$$\lim_{x \rightarrow \infty} \left(1 + \frac{10}{x} \right)^{3x}.$$

Вариант 6

1. Вычислить предел функции:

$$\lim_{x \rightarrow 9} \frac{x^2 - 81}{x^2 - 11x + 18}.$$

2. Вычислить предел функции:

$$\lim_{x \rightarrow 6} \frac{3x - 5}{2x - 12}.$$

3. Вычислить предел функции:

$$\lim_{x \rightarrow 0} \frac{\sin 19x}{\sin 3x}.$$

4. Вычислить предел функции:

$$\lim_{x \rightarrow \infty} \left(1 + \frac{14}{x} \right)^{2x}.$$

5.4.2. Время на выполнение: 40 мин.

5.4.3. Перечень объектов контроля и оценки

Наименование объектов контроля и оценки	Основные показатели оценки результата	Оценка
У 1. Умение решать задачи математического анализа, линейной алгебры и аналитической геометрии	- Вычисление предела функции в точке и в бесконечности	4 балла

За правильный ответ на вопросы или верное решение задачи выставляется положительная оценка – 1 балл.

За неправильный ответ на вопросы или неверное решение задачи выставляется отрицательная оценка – 0 баллов.

5.5. Расчетное задание

5.5.1. Текст задания

Вариант 1

Исследовать функцию $f(x) = \frac{1}{x}$ на непрерывность в точке $x_0 = 0$.

Вариант 2

Исследовать функцию $f(x) = \begin{cases} x^2 & \text{при } x \neq 0, \\ 1 & \text{при } x = 0 \end{cases}$ на непрерывность в точке $x_0 = 0$.

Вариант 3

Исследовать функцию $f(x) = x^2$ на непрерывность в точке $x_0 = 0$.

5.5.2. Время на выполнение: 10 мин.

5.5.3. Перечень объектов контроля и оценки

Наименование объектов контроля и оценки	Основные показатели оценки результата	Оценка
У 1. Умение решать задачи математического анализа, линейной алгебры и аналитической геометрии	- Исследование функции на непрерывность в точке	1 балл
З 1. Знание основных методов математического анализа, аналитической геометрии, линейной алгебры, элементарной теории вероятностей	- Классификация точек разрыва	

За правильный ответ на вопросы или верное решение задачи выставляется положительная оценка – 1 балл.

За неправильный ответ на вопросы или неверное решение задачи выставляется отрицательная оценка – 0 баллов.

5.6. Расчетное задание

5.6.1. Текст задания

Вариант 1

1. Найти производную функции $y = \sin^6(4x^3 - 2)$.
2. Найти производную третьего порядка функции $y = 3x^4 + \cos 5x$.
3. Написать уравнение касательной к графику функции $f(x) = \frac{3}{x}$ в точке с абсциссой $x_0 = -1$, $x_0 = 1$.
4. Материальная точка движется по закону $x(t) = -\frac{1}{3}t^3 + 2t^2 + 5t$. Найти скорость и ускорение в момент времени $t=5$ с. (Перемещение измеряется в метрах.)

Вариант 2

1. Найти производную функции $y = \cos^4(6x^2 + 9)$.
2. Найти производную третьего порядка функции $y = 2x^5 - \sin 3x$.
3. Написать уравнение касательной к графику функции $f(x) = 2x - x^2$ в точке с абсциссой $x_0 = 0$, $x_0 = 2$.
4. Материальная точка движется по закону $x(t) = t^3 - 4t^2$. Найти скорость и ускорение в момент времени $t=5$ с. (Перемещение измеряется в метрах.)

Вариант 3

1. Найти производную функции $y = \operatorname{tg}^5(3x^4 - 13)$.
2. Найти производную третьего порядка функции $y = 4x^3 - e^{5x}$.
3. Написать уравнение касательной к графику функции $f(x) = x^2 + 1$ в точке с абсциссой $x_0 = 0$, $x_0 = 1$.
4. Материальная точка движется по закону $x(t) = \frac{1}{4}t^4 + t^2$. Найти скорость и ускорение в момент времени $t=5$ с. (Перемещение измеряется в метрах.)

Вариант 4

1. Найти производную функции $y = \operatorname{ctg}^4(5x^3 + 6)$.
2. Найти производную третьего порядка функции $y = 5x^4 - \cos 4x$.
3. Написать уравнение касательной к графику функции $f(x) = x^3 - 1$ в точке с абсциссой $x_0 = -1$, $x_0 = 2$.
4. Материальная точка движется по закону $x(t) = t^4 - 2t$. Найти скорость и ускорение в момент времени $t=5$ с. (Перемещение измеряется в метрах.)

Вариант 5

1. Найти производную функции $y = \arcsin^3 7x^2$.
2. Найти производную третьего порядка функции $y = 4x^4 + \sin 2x$.

3. Написать уравнение касательной к графику функции $f(x) = \operatorname{tg} x$ в точке с абсциссой $x_0 = \frac{\pi}{4}$, $x_0 = \frac{\pi}{3}$.
4. Материальная точка движется по закону $x(t) = 2t^3 - 8$. Найти скорость и ускорение в момент времени $t=5$ с. (Перемещение измеряется в метрах.)

Вариант 6

1. Найти производную функции $y = \operatorname{arctg} 5x^4$.
2. Найти производную третьего порядка функции $y = 6x^5 + e^{4x}$.
3. Написать уравнение касательной к графику функции $f(x) = 1 + \cos x$ в точке с абсциссой $x_0 = 0$, $x_0 = \frac{\pi}{2}$.
4. Материальная точка движется по закону $x(t) = t^4 + 2t$. Найти скорость и ускорение в момент времени $t=5$ с. (Перемещение измеряется в метрах.)

5.6.2. Время на выполнение: 40 мин.

5.6.3. Перечень объектов контроля и оценки

Наименование объектов контроля и оценки	Основные показатели оценки результата	Оценка
У 1. Умение решать задачи математического анализа, линейной алгебры и аналитической геометрии	- Нахождение производной функции - Нахождение производных высших порядков	4 балла
З 2. Знание математических моделей простейших систем и процессов в естествознании и технике	- Формулировка геометрического и механического смысла производной	

За правильный ответ на вопросы или верное решение задачи выставляется положительная оценка – 1 балл.

За неправильный ответ на вопросы или неверное решение задачи выставляется отрицательная оценка – 0 баллов.

5.7. Устный ответ

5.7.1. Текст задания

Сформулировать правила дифференцирования и записать производные основных элементарных функций:

- | | |
|---------------------|-------------------------------------|
| 1°. $c' =$ | 8°. $(\operatorname{tg} x)' =$ |
| 2°. $(x^\alpha)' =$ | 9°. $(\operatorname{ctg} x)' =$ |
| | 10°. $(\operatorname{arcsin} x)' =$ |

В частности, $x' =$

$$(x^2)' =$$

$$(x^3)' =$$

$$(\sqrt{x})' =$$

$$\left(\frac{1}{x}\right)' =$$

$$3^\circ. (kx + b)' =$$

$$4^\circ. (a^x)' =$$

В частности, $(e^x)' =$

$$5^\circ. (\log_a x)' =$$

В частности, $(\ln x)' =$

$$(\lg x)' =$$

$$6^\circ. (\sin x)' =$$

$$7^\circ. (\cos x)' =$$

$$11^\circ. (\arccos x)' =$$

$$12^\circ. (\arctg x)' =$$

$$13^\circ. (\operatorname{arcctg} x)' =$$

ПРАВИЛА ДИФФЕРЕНЦИРОВАНИЯ

$$14^\circ. (u + v)' =$$

$$15^\circ. (u - v)' =$$

$$16^\circ. (uv)' =$$

$$17^\circ. (cu)' =$$

$$18^\circ. \left(\frac{u}{v}\right)' =$$

В частности, $\left(\frac{1}{v}\right)' =$

ПРОИЗВОДНАЯ СЛОЖНОЙ ФУНКЦИИ

$$19^\circ. f(\varphi(x))' =$$

5.7.2. Время на выполнение: 15 мин.

5.7.3. Перечень объектов контроля и оценки

Наименование объектов контроля и оценки	Основные показатели оценки результата	Оценка
З 1. Знание основных методов математического анализа, аналитической геометрии, линейной алгебры, элементарной теории вероятностей	- Формулировка правил дифференцирования и перечисление производных основных элементарных функций	28 баллов

За правильный ответ на вопросы или верное решение задачи выставляется положительная оценка – 1 балл.

За неправильный ответ на вопросы или неверное решение задачи выставляется отрицательная оценка – 0 баллов.

5.8. Расчетное задание

5.8.1. Текст задания

Исследовать функцию и построить ее график.

Вариант 1

$$f(x) = x^2 - 2x + 8.$$

Вариант 2

$$f(x) = -\frac{2x^2}{3} + x + \frac{2}{3}.$$

Вариант 3

$$f(x) = -x^2 + 5x + 4.$$

Вариант 4

$$f(x) = \frac{x^2}{4} + \frac{x}{16} + \frac{1}{4}.$$

Вариант 5

$$f(x) = -x^3 + 3x - 2.$$

Вариант 6

$$f(x) = x^4 - 2x^2 - 3.$$

Вариант 7

$$f(x) = x^3 + 3x + 2.$$

Вариант 8

$$f(x) = 3x^2 - x^3.$$

5.8.2. Время на выполнение: 20 мин.

5.8.3. Перечень объектов контроля и оценки

Наименование объектов контроля и оценки	Основные показатели оценки результата	Оценка
У 1. Умение решать задачи математического анализа, линейной алгебры и аналитической геометрии	- Исследование функции и построение графика	1 балл

За правильный ответ на вопросы или верное решение задачи выставляется положительная оценка – 1 балл.

За неправильный ответ на вопросы или неверное решение задачи выставляется отрицательная оценка – 0 баллов.

5.9. Расчетное задание

5.9.1. Текст задания

Вариант 1

Найти неопределенные интегралы методом непосредственного интегрирования (для № 1-5).

$$1. \int \left(5 \cos x - 3x^2 + \frac{1}{x} \right) dx.$$

$$2. \int \frac{3x^8 - x^5 + x^4}{x^5} dx.$$

$$3. \int \left(6^x \cdot 3^{2x} - 4 \right) dx.$$

$$4. \int \left(\frac{1}{\cos^2 x} + \frac{1}{\sqrt{1-x^2}} \right) dx.$$

$$5. \int \frac{dx}{1+16x^2}.$$

Найти неопределенные интегралы методом подстановки (для № 6-8).

$$6. \int (8x-4)^3 dx.$$

$$7. \int \frac{12x^3 + 5}{3x^4 + 5x} dx.$$

$$8. \int x^5 \cdot e^{x^6} dx.$$

9. Найти неопределенный интеграл методом интегрирования по частям:

$$\int (x+5) \cos x dx.$$

Вариант 2

Найти неопределенные интегралы методом непосредственного интегрирования (для № 1-5).

$$1. \int \left(6 \sin x + 4x - \frac{1}{x} \right) dx.$$

$$2. \int \frac{x^9 - 3x^7 + 2x^6}{x^7} dx.$$

$$3. \int \left(7^x \cdot 2^{2x} + 5 \right) dx.$$

$$4. \int \left(\frac{1}{1+x^2} + \frac{1}{\sin^2 x} \right) dx.$$

$$5. \int \frac{dx}{\sqrt{1+16x^2}}.$$

Найти неопределенные интегралы методом подстановки (для № 6-8).

$$6. \int (7x+5)^4 dx.$$

$$7. \int \frac{18x^2 - 3}{6x^3 - 3x} dx.$$

$$8. \int x^7 \cdot e^{x^8} dx.$$

9. Найти неопределенный интеграл методом интегрирования по частям:

$$\int (x-2) \sin x dx.$$

5.9.2. Время на выполнение: 60 мин.

5.9.3. Перечень объектов контроля и оценки

Наименование объектов контроля и оценки	Основные показатели оценки результата	Оценка
У 1. Умение решать задачи математического анализа, линейной алгебры и аналитической геометрии	- Нахождение неопределенных интегралов	9 баллов

За правильный ответ на вопросы или верное решение задачи выставляется положительная оценка – 1 балл.

За неправильный ответ на вопросы или неверное решение задачи выставляется отрицательная оценка – 0 баллов.

5.10. Устный ответ

5.10.1. Текст задания

Записать табличные интегралы:

1°. $\int 0 dx =$

2°. $\int x^a dx =$

В частности, $\int dx =$

3°. $\int \frac{dx}{x} =$

4°. $\int a^x dx =$

В частности, $\int e^x dx =$

5°. $\int \cos x dx =$

6°. $\int \sin x dx =$

7°. $\int \frac{dx}{\cos^2 x} =$

8°. $\int \frac{dx}{\sin^2 x} =$

9°. $\int \frac{dx}{\sqrt{a^2 - x^2}} =$

В частности, $\int \frac{dx}{\sqrt{1 - x^2}} =$

10°. $\int \frac{dx}{a^2 + x^2} =$

В частности, $\int \frac{dx}{1 + x^2} =$

5.10.2. Время на выполнение: 10 мин.

5.10.3. Перечень объектов контроля и оценки

Наименование объектов контроля и оценки	Основные показатели оценки результата	Оценка
З 1. Знание основных методов математического анализа, аналитической геометрии, линейной алгебры, элементарной теории вероятностей	- Перечисление табличных интегралов	14 баллов

За правильный ответ на вопросы или верное решение задачи выставляется положительная оценка – 1 балл.

За неправильный ответ на вопросы или неверное решение задачи выставляется отрицательная оценка – 0 баллов.

5.11. Расчетное задание

5.11.1. Текст задания

Вариант 1

1. Вычислить определенный интеграл: $\int_0^2 (4x^2 + x - 3) dx$.
2. Вычислить определенный интеграл методом подстановки: $\int_2^3 (2x - 1)^3 dx$.
3. Вычислить, предварительно сделав рисунок, площадь фигуры, ограниченной линиями: $y = -x^2 + 4$, $y = 0$, $x = -2$, $x = 2$.
4. Найти объем тела, полученного при вращении вокруг оси абсцисс криволинейной трапеции, ограниченной линиями: $y = \sqrt{x}$, $y = 0$, $x = 1$, $x = 4$.
5. Скорость движения точки изменяется по закону $v = 3t^2 + 2t + 1$ (м/с). Найти путь S , пройденный точкой за 10 с от начала движения.

Вариант 2

1. Вычислить определенный интеграл: $\int_0^3 (2x^2 - x + 4) dx$.
2. Вычислить определенный интеграл методом подстановки: $\int_1^4 (3x + 1)^4 dx$.
3. Вычислить, предварительно сделав рисунок, площадь фигуры, ограниченной линиями: $y = -x^2 + 1$, $y = 0$, $x = -1$, $x = 1$.
4. Найти объем тела, полученного при вращении вокруг оси абсцисс криволинейной трапеции, ограниченной линиями: $y = \sqrt{x}$, $y = 0$, $x = 0$, $x = 1$.
5. Скорость движения точки изменяется по закону $v = 9t^2 - 8t$ (м/с). Найти путь S , пройденный точкой за четвертую секунду.

5.11.2. Время на выполнение: 40 мин.

5.11.3. Перечень объектов контроля и оценки

Наименование объектов контроля и оценки	Основные показатели оценки результата	Оценка
У 1. Умение решать задачи математического анализа, линейной алгебры и аналитической геометрии	- Вычисление определенных интегралов	5 баллов
З 2. Знание математических моделей простейших систем и процессов в естествознании и технике	- Приложение определенного интеграла к вычислению площадей плоских фигур, объемов тел вращения, пути, пройденного точкой	

За правильный ответ на вопросы или верное решение задачи выставляется положительная оценка – 1 балл.

За неправильный ответ на вопросы или неверное решение задачи выставляется отрицательная оценка – 0 баллов.

5.12. Расчетное задание

5.12.1. Текст задания

Вариант 1

Найти частные производные функций.

1. $z = x \cdot \ln y + \frac{y}{x}$.

2. $z = \ln(x^2 + 2y^3)$.

3. $z = (1 + x^2)^y$.

Вариант 2

Найти частные производные функций.

1. $z = x^y$.

2. $z = x^3 y^2 - 2xy^3$.

3. $z = \ln^x y$.

5.12.2. Время на выполнение: 25 мин.

5.12.3. Перечень объектов контроля и оценки

Наименование объектов контроля и оценки	Основные показатели оценки результата	Оценка
---	---------------------------------------	--------

У 1. Умение решать задачи математического анализа, линейной алгебры и аналитической геометрии	- Нахождение частных производных	3 балла
---	----------------------------------	---------

За правильный ответ на вопросы или верное решение задачи выставляется положительная оценка – 1 балл.

За неправильный ответ на вопросы или неверное решение задачи выставляется отрицательная оценка – 0 баллов.

5.13. Расчетное задание

5.13.1. Текст задания

Вариант 1

Являются ли данные функции решениями данных дифференциальных уравнений (для № 1-4).

$$1. y = c_1 e^{-5x} + c_2 e^x, \quad y' + 4y' - 5y = 0.$$

$$2. y = c_1 e^x + c_2 x e^x, \quad y' + 2y' + y = 0.$$

$$3. y = \frac{8}{x}, \quad y' = -\frac{1}{8} y^2.$$

$$4. y = e^{4x} + 2, \quad y' = 4y.$$

$$5. \text{ Решить задачу Коши: } y' = 4x^3 - 2x + 5, \quad y(1) = 8.$$

Решить следующие дифференциальные уравнения первого и второго порядка (для № 6-12).

$$6. y' = \frac{1}{\cos^2 x} + x^4.$$

$$7. y' = -6y.$$

$$8. y' = \frac{x-1}{y^2}.$$

$$9. y' = \frac{y}{\sqrt{1-x^2}}.$$

$$10. y' - 3y + 5 = 0.$$

$$11. y' - 7y' + 10y = 0.$$

$$12. y' + 4y' + 4y = 0.$$

Вариант 2

Являются ли данные функции решениями данных дифференциальных уравнений (для № 1-4).

$$1. y = c_1 e^{-2x} + c_2 x e^{-2x}, \quad y' + 4y' + 4y = 0.$$

$$2. y = c_1 e^{3x} + c_2 e^x, \quad y' - y' - 6y = 0.$$

$$3. y = e^{3x} - 5, \quad y' = 3y + 15.$$

$$4. y = \frac{1}{x}, \quad y' = -y^2.$$

$$5. \text{ Решить задачу Коши: } y' = 3x^2 - 2x + 6, \quad y(2) = 19.$$

Решить следующие дифференциальные уравнения первого и второго порядка (для № 6-12).

$$6. y' = \frac{1}{\sqrt{1-x^2}} - x^7.$$

$$7. y' = 8y.$$

$$8. y' = \frac{2x}{y^2}.$$

$$9. y' = \frac{y}{1+x^2}.$$

$$10. y' + 8y - 3 = 0.$$

$$11. y' + 8y' + 16y = 0.$$

$$12. y' - y' - 12y = 0.$$

5.13.2. Время на выполнение: 80 мин.

5.13.3. Перечень объектов контроля и оценки

Наименование объектов контроля и оценки	Основные показатели оценки результата	Оценка
У 2. Умение применять различные методы для решения обыкновенных дифференциальных уравнений и их систем	- Решение дифференциальных уравнений первого и второго порядка	12 баллов

За правильный ответ на вопросы или верное решение задачи выставляется положительная оценка – 1 балл.

За неправильный ответ на вопросы или неверное решение задачи выставляется отрицательная оценка – 0 баллов.

5.14. Устный ответ

5.14.1. Текст задания

1. Сформулировать общие положения при составлении дифференциального уравнения по условию задачи.
2. Записать дифференциальное уравнение показательного роста и показательного убывания и получить его решение. Привести примеры прикладных задач, решаемых с его помощью.
3. Сформулировать задачу о радиоактивном распаде, записать для нее дифференциальное уравнение.
4. Сформулировать задачу о гармонических колебаниях, записать дифференциальное уравнение гармонических колебаний.
5. Сформулировать задачу о падении тел в атмосферной среде, записать для нее дифференциальное уравнение.

5.14.2. Время на выполнение: 30 мин.

5.14.3. Перечень объектов контроля и оценки

Наименование объектов	Основные показатели	Оценка
-----------------------	---------------------	--------

контроля и оценки	оценки результата	
З 2. Знание математических моделей простейших систем и процессов в естествознании и технике	- Описание процессов в естествознании и технике с помощью дифференциальных уравнений	5 баллов

За правильный ответ на вопросы или верное решение задачи выставляется положительная оценка – 1 балл.

За неправильный ответ на вопросы или неверное решение задачи выставляется отрицательная оценка – 0 баллов.

5.15. Расчетное задание

5.15.1. Текст задания

1. Пользуясь необходимым признаком сходимости, показать, что ряд

$$1 + \frac{1}{2} + \frac{2}{3} + \frac{3}{4} + \dots + \frac{n}{n+1} + \dots$$
расходится.
2. С помощью признака Даламбера решить вопрос о сходимости ряда

$$\frac{1}{3} + \frac{2}{3^2} + \frac{3}{3^3} + \dots + \frac{n}{3^n} + \dots$$
3. Пользуясь признаком Лейбница, исследовать на сходимость знакопеременный ряд

$$1 - \frac{1}{2} + \frac{1}{3} - \frac{1}{4} + \dots + (-1)^{n-1} \frac{1}{n} + \dots$$
4. Пользуясь признаком сходимости знакопеременного ряда, исследовать на сходимость ряд

$$1 - \frac{1}{2!} + \frac{1}{3!} - \frac{1}{4!} + \dots + (-1)^{n-1} \frac{1}{n!} + \dots$$

5.15.2. Время на выполнение: 30 мин.

5.15.3. Перечень объектов контроля и оценки

Наименование объектов контроля и оценки	Основные показатели оценки результата	Оценка
У 1. Умение решать задачи математического анализа, линейной алгебры и аналитической геометрии	- Исследование рядов на сходимость	4 балла

За правильный ответ на вопросы или верное решение задачи выставляется положительная оценка – 1 балл.

За неправильный ответ на вопросы или неверное решение задачи выставляется отрицательная оценка – 0 баллов.

Вопросы дифференцированного зачета

1. Матрицы, действия над матрицами.
2. Определители 1-го, 2-го, 3-го порядков. Правило треугольников.
3. Определители n -го порядка. Теорема Лапласа.
4. Обратная матрица. Алгоритм нахождения обратной матрицы.
5. Ранг матрицы. Алгоритм вычисления ранга матрицы с помощью элементарных преобразований.
6. Система линейных уравнений. Метод обратной матрицы. Формулы Крамера. Метод Гаусса.
7. Векторы и операции над ними.
8. Проекция вектора на ось и ее свойства.
9. Декартова прямоугольная система координат. Полярная система координат.
10. Скалярное, векторное и смешанное произведения векторов.
11. Предел функции в точке. Основные теоремы о пределах.
12. Предел функции при x , стремящемся к бесконечности. Замечательные пределы. Число e .
13. Непрерывность функции в точке и на промежутке. Точка непрерывности функции. Точка разрыва функции. Свойства непрерывных функций. Приращение аргумента. Приращение функции.
14. Производная функции. Дифференциал функции. Геометрический смысл производной. Механический смысл производной.
15. Таблица производных. Понятие сложной функции. Производная сложной функции.
16. Схема исследования функции. Область определения функции. Множество значений функции. Четность и нечетность функции. Нули функции. Промежутки знакопостоянства функции. Возрастание и убывание функции, правило нахождения промежутков монотонности. Точки экстремума функции, правило нахождения экстремумов функции.
17. Производные высших порядков. Физический смысл второй производной. Исследование функции с помощью второй производной.
18. Первообразная. Неопределенный интеграл. Основные свойства неопределенного интеграла.
19. Таблица неопределенных интегралов.
20. Методы интегрирования: метод непосредственного интегрирования; метод замены переменной (метод подстановки); метод интегрирования по частям.
21. Определенный интеграл. Понятие интегральной суммы. Достаточное условие существования определенного интеграла (интегрируемости функции).
22. Основные свойства определенного интеграла. Геометрический смысл определенного интеграла.
23. Методы вычисления определенных интегралов. Формула Ньютона-Лейбница.
24. Геометрические и физические приложения определенного интеграла.
25. Функции нескольких переменных. Частные производные.
26. Понятие дифференциального уравнения. Общее и частное решение дифференциального уравнения. Интегральные кривые. Задача Коши.
27. Задачи, приводящие к дифференциальным уравнениям.
28. Методы решения дифференциальных уравнений.
29. Понятие числового ряда. Сходимость и расходимость числовых рядов.
30. Необходимый признак сходимости ряда. Признак сравнения. Признак Даламбера.
31. Понятие знакочередующегося ряда. Признак сходимости Лейбница.
32. Абсолютная и условная сходимость знакпеременного ряда.
33. Функциональные ряды. Степенные ряды. Область сходимости степенного ряда. Разложение элементарных функций в ряд Маклорена.

Задания дифференцированного зачета

1. Вычислить предел $\lim_{x \rightarrow \infty} \left(1 + \frac{7}{3x}\right)^{5x}$.
2. Вычислить пределы:
 а) $\lim_{x \rightarrow \infty} \frac{5x^4 - x^3 + 1}{2x^4 + x}$; б) $\lim_{x \rightarrow \infty} \frac{x^3 + 2x}{x^2 - 4}$; в) $\lim_{x \rightarrow \infty} \frac{x^2 - 4}{x + 2x}$.
3. Вычислить предел $\lim_{x \rightarrow 0} \frac{\sin 17x}{\sin 5x}$.
4. Вычислить предел $\lim_{x \rightarrow 0} \frac{3x}{3x^2 + x}$.
5. Вычислить предел $\lim_{x \rightarrow 0} \frac{x^2 - 2x}{x^2 - 10x + 16}$.
6. Вычислить предел $\lim_{x \rightarrow 8} \frac{x - 8}{x - 8}$.
7. Исследовать функцию $f(x) = \frac{5x}{x - 6}$ на непрерывность в точке $x_0 = 6$.
8. Исследовать функцию $f(x) = 3x^2 - x^3$ и построить ее график.
9. Вычислить значение производной следующих функций в точке $x_0 = 4$:
 а) $f(x) = 8x^2 - \ln x$; б) $f(x) = x^3 + 5x$.
10. Найти производную функции $y = (x^4 - 5x^2 + x)^7$.
11. Найти производную функции $y = \frac{11x - 8}{2x + 4}$.
12. Найти производную функции $y = e^{2x^5 - 8}$.
13. Найти производную функции $y = \ln(8x^4 - 3x^2 + 2)$.
14. Найти неопределенный интеграл $\int \frac{dx}{4 - x^3 + x^2 - 2x}$.
15. Найти неопределенный интеграл методом замены переменной $\int x^2 \cdot e^{x^3} dx$.
16. Найти неопределенный интеграл методом замены переменной $\int (6x + 11)^4 dx$.
17. Найти неопределенный интеграл методом замены переменной $\int \cos(6x - 1) dx$.
18. Найти неопределенный интеграл методом замены переменной $\int \sin^6 x \cdot \cos x dx$.
19. Вычислить определенный интеграл $\int_0^3 (5x + 1) dx$.
20. Вычислить определенный интеграл $\int_0^1 \frac{(x - 5) x dx}{2x^3 + x^4}$.
21. Вычислить определенный интеграл $\int_0^1 \frac{dx}{x^2}$.
22. Скорость движения точки изменяется по закону $v = 5t^2 + 4t + 2$ (м/с). Найти путь s , пройденный точкой за 4 с от начала движения.

23. Вычислить объем тела, полученного от вращения фигуры, ограниченной линиями $y = x^2$, $y = 0$, $x = 1$, $x = 3$, вокруг оси Ox .
24. Вычислить площадь фигуры, ограниченной линиями $y = x^2$, $y = 0$, $x = 1$, $x = 2$.
25. Решить дифференциальное уравнение $y' - 9y' + 20y = 0$.
26. Решить задачу Коши: $y' = 6x^2 + 4x$, $y(1) = 9$.
27. Решить дифференциальное уравнение $y' = 11x$.

Шкала оценки образовательных достижений

Процент результативности (правильных ответов)	Оценка уровня подготовки	
	балл (отметка)	вербальный аналог
90 ÷ 100	5	отлично
80 ÷ 89	4	хорошо
70 ÷ 79	3	удовлетворительно
менее 70	2	неудовлетворительно

МИНОБРНАУКИ РОССИИ
ВЛАДИВОСТОКСКИЙ ГОСУДАРСТВЕННЫЙ УНИВЕРСИТЕТ
ЭКОНОМИКИ И СЕРВИСА

КОНТРОЛЬНО-ОЦЕНОЧНЫЕ СРЕДСТВА
для проведения текущего контроля и промежуточной аттестации
по учебной дисциплине

ЕН.01. «Элементы высшей математики»

программы подготовки специалистов среднего звена
квалифицированных рабочих и служащих


09.02.06 Сетевое и системное администрирование

Форма обучения: очная

Владивосток 2019

Контрольно-оценочные средства для проведения текущего контроля и промежуточной аттестации по учебной дисциплине ЕН.01 «Элементы высшей математики» разработаны в соответствии с требованиями ФГОССПО по специальности 09.02.06 Сетевое и системное администрирование, утвержденного приказом Минобрнауки РФ от 09.12.2016, №1548, примерной образовательной программой, рабочей программой учебной дисциплины.

Разработчик: Е.А., Стефанович, преподаватель

Рассмотрена на заседании ЦМК Информационных систем и комплексов
Протокол № 9 от «15» 05.2019
Председатель ЦМК  Стефанович Е.А.

1 Общие положения

Контрольно-оценочные средства (далее – КОС) предназначены для контроля и оценки образовательных достижений обучающихся, освоивших программу учебной дисциплины ЕН.01 «Элементы высшей математики»

КОС включают в себя контрольные материалы для проведения текущего контроля успеваемости и промежуточной аттестации по дисциплине, которая проводится в форме дифференцированного зачёта.

2 Планируемые результаты обучения по дисциплине, обеспечивающие результаты освоения образовательной программы

Код ПК, ОК	Умения	Знания
<i>ОК 01- ОК5, ОК9- ОК10</i>	Выполнять операции над матрицами и решать системы линейных уравнений. Определять предел последовательности, предел функции. Применять методы дифференциального и интегрального исчисления. Использовать методы дифференцирования и интегрирования для решения практических задач. Решать дифференциальные уравнения. Пользоваться понятиями теории комплексных чисел.	Основы математического анализа, линейной алгебры и аналитической геометрии. Основы дифференциального и интегрального исчисления. Основы теории комплексных чисел.

3 Распределение основных показателей оценки результатов по видам аттестации

Наименование элемента умений или знаний	Виды аттестации	
	<i>Текущий контроль</i>	<i>Промежуточная аттестация</i>
У 1. выполнять операции над матрицами и решать системы линейных уравнений;	+	+
У 2. применять методы дифференциального и интегрального исчисления;	+	+

У 3. решать дифференциальные уравнения;	+	+
З 1. Знание основ математического анализа, аналитической геометрии, линейной алгебры	+	+
З 2. Знание основы дифференциального и интегрального исчисления	+	+

4 Распределение типов контрольных заданий по элементам знаний и умений.

Содержание учебного материала по программе УД	Тип контрольного задания				
	У1	У2	У3	З1	З2
Тема Элементы линейной алгебры					
Матрицы	расчетное задание 6.1				
Определители	расчетное задание 6.3			устный ответ 6.2	
Матрицы и определители	расчетное задание 6.1				
Тема Векторы и действия над ними					
Векторы и действия над ними	расчетное задание 6.3			расчетное задание 6.5	
Тема Аналитическая геометрия на плоскости					
Аналитическая геометрия на плоскости	расчетное задание 6.4				
Тема Дифференциальное исчисление					
Производная и дифференциал	расчетное задание 6.6			устный ответ 6.7	расчетное задание 6.6
Функции двух переменных	расчетное задание 6.8				

Тема Интегральное исчисление					
Неопределенный интеграл	расчетное задание 6.9			устный ответ 6.10	
Определенный интеграл	расчетное задание 6.11				расчетное задание 6.11
Интегральное исчисление функции двух переменных					
Тема Дифференциальные уравнения					
Дифференциальные уравнения 1 порядка		расчетное задание 6.13			устный ответ 6.14
Дифференциальные уравнения 2 порядка		расчетное задание 6.13			устный ответ 6.14
Дифференциальные уравнения в науке и технике					
Тема Теория пределов					
Теория пределов					устный ответ 6.15

5 Перечень оценочных средств

№ п/п	Форма проведения оценки результатов освоения дисциплины	Краткая характеристика форм оценки результатов освоения дисциплины	Представление оценочного средства в фонде
1	Доклад, сообщение	Продукт самостоятельной работы студента, представляющий собой публичное выступление по представлению полученных результатов решения определенной учебно-практической, учебно-исследовательской или научной темы	Темы докладов, сообщений
2	Собеседование	Средство контроля, организованное как специальная беседа преподавателя с обучающимся на темы, связанные с изучаемой дисциплиной, и рассчитанное на выяснение объема знаний обучающегося по определенному разделу, теме, проблеме и т.п.	Вопросы по темам/разделам дисциплины
3	Тест	Система стандартизированных заданий, позволяющая автоматизировать процедуру измерения уровня знаний и умений обучающегося.	Фонд тестовых заданий

6. Структура контрольного задания

6.1. Расчетное задание

6.1.1. Текст задания

Вариант 1

5. Найти матрицу $C=A+3B$, если $A = \begin{pmatrix} 2 & 3 & 0 \\ -2 & 1 & 8 \\ 2 & 4 & 3 \end{pmatrix}$, $B = \begin{pmatrix} -1 & 0 & 3 \\ 2 & 4 & 1 \\ 1 & 3 & 0 \end{pmatrix}$.

6. Решить систему линейных уравнений методом обратной матрицы.

7. Решить систему линейных уравнений по формулам Крамера.

8. Решить систему линейных уравнений методом Гаусса.

$$\begin{cases} x_1 + 2x_2 - x_3 = 1, \\ 2x_1 - x_2 + x_3 = 5, \\ 3x_1 + 2x_2 + x_3 = 7. \end{cases}$$

| 1 2 3

Вариант 2

1. Найти матрицу $C=2A-B$, если $A = \begin{pmatrix} 2 & 3 & 0 \\ -2 & 1 & 8 \\ 2 & 4 & 3 \end{pmatrix}$, $B = \begin{pmatrix} -1 & 0 & 3 \\ 2 & 4 & 1 \\ 1 & 3 & 0 \end{pmatrix}$.

2. Решить систему линейных уравнений методом обратной матрицы.

3. Решить систему линейных уравнений по формулам Крамера.

4. Решить систему линейных уравнений методом Гаусса.

$$\begin{cases} x_1 - x_2 + 2x_3 = -2, \\ x + 2x - x = 7, \\ 2x^1 + x^2 - 3x^3 = 5. \end{cases}$$

| 1 2 3

Вариант 3

5. Найти матрицу $C=3A+B$, если $A = \begin{pmatrix} 2 & 3 & 0 \\ -2 & 1 & 8 \\ 2 & 4 & 3 \end{pmatrix}$, $B = \begin{pmatrix} -1 & 0 & 3 \\ 2 & 4 & 1 \\ 1 & 3 & 0 \end{pmatrix}$.

6. Решить систему линейных уравнений методом обратной матрицы.

7. Решить систему линейных уравнений по формулам Крамера.

8. Решить систему линейных уравнений методом Гаусса.

$$\begin{cases} x_1 + 3x_2 - 2x_3 = 4, \\ x + 4x - x = 7, \\ 2x + x^2 + x^3 = 3. \end{cases}$$

| 1 2 3

Вариант 4

5. Найти матрицу $C=A-4B$, если $A = \begin{pmatrix} 2 & 3 & 0 \\ -2 & 1 & 8 \\ 2 & 4 & 3 \end{pmatrix}$, $B = \begin{pmatrix} -1 & 0 & 3 \\ 2 & 4 & 1 \\ 1 & 3 & 0 \end{pmatrix}$.

6. Решить систему линейных уравнений методом обратной матрицы.

7. Решить систему линейных уравнений по формулам Крамера.

8. Решить систему линейных уравнений методом Гаусса.

$$\begin{cases} x_1 + 2x_2 - x_3 = 3, \\ x_1 + 3x_2 + x_3 = 6, \\ 2x_1 - x_2 + x_3 = 4. \end{cases}$$

| 1 2 3

Вариант 5

5. Найти матрицу $C=4A-B$, если $A = \begin{pmatrix} 2 & 3 & 0 \\ -2 & 1 & 8 \\ 2 & 4 & 3 \end{pmatrix}$, $B = \begin{pmatrix} -1 & 0 & 3 \\ 2 & 4 & 1 \\ 1 & 3 & 0 \end{pmatrix}$.

6. Решить систему линейных уравнений методом обратной матрицы.

7. Решить систему линейных уравнений по формулам Крамера.

8. Решить систему линейных уравнений методом Гаусса.

$$\begin{cases} x_1 + x_2 - 3x_3 = 2, \\ x_1 + 2x_2 + x_3 = 3, \\ 3x_1 + 7x_2 + x_3 = 10. \end{cases}$$

| 1 2 3

Вариант 6

5. Найти матрицу $C=A+2B$, если $A = \begin{pmatrix} 2 & 3 & 0 \\ -2 & 1 & 8 \\ 2 & 4 & 3 \end{pmatrix}$, $B = \begin{pmatrix} -1 & 0 & 3 \\ 2 & 4 & 1 \\ 1 & 3 & 0 \end{pmatrix}$.

6. Решить систему линейных уравнений методом обратной матрицы.

7. Решить систему линейных уравнений по формулам Крамера.

8. Решить систему линейных уравнений методом Гаусса.

$$\begin{cases} x_1 + x_2 + x_3 = 3, \\ 2x_1 - x_2 + x_3 = 1, \\ 2x_1 + 3x_2 - x_3 = 1. \end{cases}$$

| 1 2 3

6.1.2. Время на выполнение: 60 мин.

6.1.3. Перечень объектов контроля и оценки

Наименование объектов контроля и оценки	Основные показатели оценки результата	Оценка
У 1. выполнять операции над матрицами и решать системы линейных уравнений;	- Выполнение действий над матрицами - Вычисление определителей - Решение систем линейных уравнений методом обратной матрицы - Решение систем линейных уравнений по формулам Крамера - Решение систем линейных уравнений методом Гаусса	4 балла

3 1. линейной алгебры и аналитической геометрии,	- Перечисление последовательности действий при решении систем линейных уравнений методом обратной матрицы, по формулам Крамера, методом Гаусса	
--	--	--

За правильный ответ на вопросы или верное решение задачи выставляется положительная оценка – 1 балл.

За неправильный ответ на вопросы или неверное решение задачи выставляется отрицательная оценка – 0 баллов.

6.2. Устный ответ

6.2.1. Текст задания

6. Дать определение вектора.
7. Дать определение проекции вектора на ось и перечислить ее свойства.
8. Дать определение скалярного произведения векторов и перечислить его свойства.
9. Дать определение векторного произведения векторов и перечислить его свойства.
10. Дать определение смешанного произведения векторов и перечислить его свойства.

6.2.2. Время на выполнение: 20 мин.

6.2.3. Перечень объектов контроля и оценки

Наименование объектов контроля и оценки	Основные показатели оценки результата	Оценка
3 2. Знание основных методов математического анализа, аналитической геометрии, линейной алгебры, элементарной теории вероятностей	- Формулировка определений и перечисление свойств скалярного, векторного и смешанного произведения векторов	5 баллов

За правильный ответ на вопросы или верное решение задачи выставляется положительная оценка – 1 балл.

За неправильный ответ на вопросы или неверное решение задачи выставляется отрицательная оценка – 0 баллов.

6.3. Расчетное задание

6.3.1. Текст задания

Вариант 1

Даны векторы $a(9;-2;1)$ и $b(4;3;0)$ (для № 1-5).

9. Найти $\vec{a} \cdot \vec{b}$.

10. Найти $(\vec{a} \wedge \vec{b})$.
11. Найти \vec{a}^2 .
12. Найти $|\vec{b}|$.
13. Найти координаты векторов $\vec{c} = \vec{a} + \vec{b}$, $\vec{d} = \vec{a} - \vec{b}$, $\vec{f} = -3\vec{a}$.
14. В прямоугольной декартовой системе координат построить точки $A(0; 0)$, $B(3; -4)$, $C(-3; 4)$. Определить расстояние между точками A и B , B и C , A и C .
15. Построить точки, заданные полярными координатами: $A(2; \pi/2)$, $B(3; \pi/4)$, $C(3; 3\pi/4)$.
16. Даны точки в полярной системе координат $A(2; \pi/4)$, $B(4; \pi/2)$. Найти их прямоугольные координаты.

Вариант 2

Даны векторы $a(-3; 2; 1)$ и $b(3; 0; 4)$ (для № 1-5).

9. Найти $\vec{a} \cdot \vec{b}$.
10. Найти $(\vec{a} \wedge \vec{b})$.
11. Найти \vec{a}^2 .
12. Найти $|\vec{b}|$.
13. Найти координаты векторов $\vec{c} = \vec{a} + \vec{b}$, $\vec{d} = \vec{a} - \vec{b}$, $\vec{f} = -3\vec{a}$.
14. В прямоугольной декартовой системе координат построить точки $A(0; 0)$, $C(-3; 4)$, $D(-2; 2)$, $E(10; -3)$. Определить расстояние между точками C и D , A и D , D и E .
15. Построить точки, заданные полярными координатами: $A(4; 0)$, $B(2; 3\pi/2)$, $C(3; \pi)$.
16. Даны точки в прямоугольной системе координат $A(0; 5)$, $B(-3; 0)$, $C(\sqrt{3}; 1)$. Найти их полярные координаты.

6.3.2. Время на выполнение: 70 мин.

6.3.3. Перечень объектов контроля и оценки

Наименование объектов контроля и оценки	Основные показатели оценки результата	Оценка
У 1. Умение решать задачи математического анализа, линейной алгебры и аналитической геометрии	- Выполнение действий над векторами - Нахождение скалярного, векторного и смешанного произведения векторов - Построение точек и нахождение их координат в прямоугольной декартовой и полярной системах координат	8 баллов

За правильный ответ на вопросы или верное решение задачи выставляется положительная оценка – 1 балл.

За неправильный ответ на вопросы или неверное решение задачи выставляется отрицательная оценка – 0 баллов.

6.4. Расчетное задание

6.4.1. Текст задания

Вариант 1

5. Вычислить предел функции:

$$\lim_{x \rightarrow 3} \frac{x^2 - 9}{x^2 - 8x + 15}.$$

6. Вычислить предел функции:

$$\lim_{x \rightarrow 2} \frac{x + 5}{3x - 6}.$$

7. Вычислить предел функции:

$$\lim_{x \rightarrow 0} \frac{\sin 17x}{\sin 12x}.$$

8. Вычислить предел функции:

$$\lim_{x \rightarrow \infty} \left(1 + \frac{7}{x} \right)^{\frac{3}{x}}.$$

Вариант 2

5. Вычислить предел функции:

$$\lim_{x \rightarrow 4} \frac{x^2 + x - 20}{x - 16}.$$

6. Вычислить предел функции:

$$\lim_{x \rightarrow 2} \frac{3x + 6}{2x - 4}.$$

7. Вычислить предел функции:

$$\lim_{x \rightarrow 0} \frac{\sin 7x}{\sin 13x}.$$

8. Вычислить предел функции:

$$\lim_{x \rightarrow \infty} \left(1 + \frac{12}{x} \right)^{\frac{4}{x}}.$$

Вариант 3

5. Вычислить предел функции:

$$\lim_{x \rightarrow 7} \frac{x^2 - 49}{x^2 - 5x - 14}.$$

6. Вычислить предел функции:

$$\lim_{x \rightarrow 3} \frac{x^2 + 4}{2x - 6}.$$

7. Вычислить предел функции:

$$\lim_{x \rightarrow 0} \frac{\sin 9x}{\sin 4x}.$$

8. Вычислить предел функции:

$$\lim_{x \rightarrow \infty} \left(1 + \frac{15}{x} \right)^{5x}.$$

Вариант 4

5. Вычислить предел функции:

$$\lim_{x \rightarrow 5} \frac{x^2 - 12x + 35}{x - 25}.$$

6. Вычислить предел функции:

$$\lim_{x \rightarrow 5} \frac{x^2 - 1}{2x - 10}.$$

7. Вычислить предел функции:

$$\lim_{x \rightarrow 0} \frac{\sin 8x}{\sin 19x}.$$

8. Вычислить предел функции:

$$\lim_{x \rightarrow \infty} \left(1 + \frac{4}{x} \right)^{2x}.$$

Вариант 5

5. Вычислить предел функции:

$$\lim_{x \rightarrow 6} \frac{x^2 - 3x - 18}{x - 36}.$$

6. Вычислить предел функции:

$$\lim_{x \rightarrow 4} \frac{2x - 3}{3x - 12}.$$

7. Вычислить предел функции:

$$\lim_{x \rightarrow 0} \frac{\sin 5x}{\sin 14x}.$$

8. Вычислить предел функции:

$$\lim_{x \rightarrow \infty} \left(1 + \frac{10}{x} \right)^{3x}.$$

Вариант 6

5. Вычислить предел функции:

$$\lim_{x \rightarrow 9} \frac{x^2 - 81}{x^2 - 11x + 18}.$$

6. Вычислить предел функции:

$$\lim_{x \rightarrow 6} \frac{3x - 5}{2x - 12}.$$

7. Вычислить предел функции:

$$\lim_{x \rightarrow 0} \frac{\sin 19x}{\sin 3x}.$$

8. Вычислить предел функции:

$$\lim_{x \rightarrow \infty} \left(1 + \frac{14}{x} \right)^{2x}.$$

6.4.2. Время на выполнение: 40 мин.

6.4.3. Перечень объектов контроля и оценки

Наименование объектов контроля и оценки	Основные показатели оценки результата	Оценка
У 1. Умение решать задачи математического анализа, линейной алгебры и аналитической геометрии	- Вычисление предела функции в точке и в бесконечности	4 балла

За правильный ответ на вопросы или верное решение задачи выставляется положительная оценка – 1 балл.

За неправильный ответ на вопросы или неверное решение задачи выставляется отрицательная оценка – 0 баллов.

6.5. Расчетное задание

6.5.1. Текст задания

Вариант 1

Исследовать функцию $f(x) = \frac{1}{x}$ на непрерывность в точке $x_0 = 0$.

Вариант 2

Исследовать функцию $f(x) = \begin{cases} x^2 & \text{при } x \neq 0, \\ 1 & \text{при } x = 0 \end{cases}$ на непрерывность в точке $x_0 = 0$.

Вариант 3

Исследовать функцию $f(x) = x^2$ на непрерывность в точке $x_0 = 0$.

6.5.2. Время на выполнение: 10 мин.

6.5.3. Перечень объектов контроля и оценки

Наименование объектов контроля и оценки	Основные показатели оценки результата	Оценка
У 1. Умение решать задачи математического анализа, линейной алгебры и аналитической геометрии	- Исследование функции на непрерывность в точке	1 балл
З 1. Знание основных методов математического анализа, аналитической геометрии, линейной алгебры, элементарной теории вероятностей	- Классификация точек разрыва	

За правильный ответ на вопросы или верное решение задачи выставляется положительная оценка – 1 балл.

За неправильный ответ на вопросы или неверное решение задачи выставляется отрицательная оценка – 0 баллов.

6.6. Расчетное задание

6.6.1. Текст задания

Вариант 1

5. Найти производную функции $y = \sin^6(4x^3 - 2)$.
6. Найти производную третьего порядка функции $y = 3x^4 + \cos 5x$.
7. Написать уравнение касательной к графику функции $f(x) = \frac{3}{x}$ в точке с абсциссой $x_0 = -1$, $x_0 = 1$.
8. Материальная точка движется по закону $x(t) = -\frac{1}{3}t^3 + 2t^2 + 5t$. Найти скорость и ускорение в момент времени $t=5$ с. (Перемещение измеряется в метрах.)

Вариант 2

5. Найти производную функции $y = \cos^4(6x^2 + 9)$.
6. Найти производную третьего порядка функции $y = 2x^5 - \sin 3x$.
7. Написать уравнение касательной к графику функции $f(x) = 2x - x^2$ в точке с абсциссой $x_0 = 0$, $x_0 = 2$.
8. Материальная точка движется по закону $x(t) = t^3 - 4t^2$. Найти скорость и ускорение в момент времени $t=5$ с. (Перемещение измеряется в метрах.)

Вариант 3

5. Найти производную функции $y = tg^5(3x^4 - 13)$.
6. Найти производную третьего порядка функции $y = 4x^3 - e^{5x}$.
7. Написать уравнение касательной к графику функции $f(x) = x^2 + 1$ в точке с абсциссой $x_0 = 0$, $x_0 = 1$.
8. Материальная точка движется по закону $x(t) = \frac{1}{4}t^4 + t^2$. Найти скорость и ускорение в момент времени $t=5$ с. (Перемещение измеряется в метрах.)

Вариант 4

5. Найти производную функции $y = ctg^4(5x^3 + 6)$.
6. Найти производную третьего порядка функции $y = 5x^4 - \cos 4x$.
7. Написать уравнение касательной к графику функции $f(x) = x^3 - 1$ в точке с абсциссой $x_0 = -1$, $x_0 = 2$.
8. Материальная точка движется по закону $x(t) = t^4 - 2t$. Найти скорость и ускорение в момент времени $t=5$ с. (Перемещение измеряется в метрах.)

Вариант 5

5. Найти производную функции $y = \arcsin^3 7x^2$.
6. Найти производную третьего порядка функции $y = 4x^4 + \sin 2x$.

7. Написать уравнение касательной к графику функции $f(x) = \operatorname{tg} x$ в точке с абсциссой $x_0 = \frac{\pi}{4}$, $x_0 = \frac{\pi}{3}$.
8. Материальная точка движется по закону $x(t) = 2t^3 - 8$. Найти скорость и ускорение в момент времени $t=5$ с. (Перемещение измеряется в метрах.)

Вариант 6

5. Найти производную функции $y = \operatorname{arctg} 5x^4$.
6. Найти производную третьего порядка функции $y = 6x^5 + e^{4x}$.
7. Написать уравнение касательной к графику функции $f(x) = 1 + \cos x$ в точке с абсциссой $x_0 = 0$, $x_0 = \frac{\pi}{2}$.
8. Материальная точка движется по закону $x(t) = t^4 + 2t$. Найти скорость и ускорение в момент времени $t=5$ с. (Перемещение измеряется в метрах.)

6.6.2. Время на выполнение: 40 мин.

6.6.3. Перечень объектов контроля и оценки

Наименование объектов контроля и оценки	Основные показатели оценки результата	Оценка
У 1. Умение решать задачи математического анализа, линейной алгебры и аналитической геометрии	- Нахождение производной функции - Нахождение производных высших порядков	4 балла
З 2. Знание математических моделей простейших систем и процессов в естествознании и технике	- Формулировка геометрического и механического смысла производной	

За правильный ответ на вопросы или верное решение задачи выставляется положительная оценка – 1 балл.

За неправильный ответ на вопросы или неверное решение задачи выставляется отрицательная оценка – 0 баллов.

6.7. Устный ответ

6.7.1. Текст задания

Сформулировать правила дифференцирования и записать производные основных элементарных функций:

1°. $c' =$

8°. $(\operatorname{tg} x)' =$

2°. $(x^\alpha)' =$

9°. $(\operatorname{ctg} x)' =$

10°. $(\arcsin x)' =$

В частности, $x' =$

$$(x^2)' =$$

$$(x^3)' =$$

$$(\sqrt{x})' =$$

$$\left(\frac{1}{x}\right)' =$$

$$3^\circ. (kx + b)' =$$

$$4^\circ. (a^x)' =$$

В частности, $(e^x)' =$

$$5^\circ. (\log x)' =$$

В частности, $(\ln x)' =$

$$\left(\frac{1}{x}\right)' =$$

$$6^\circ. (\sin x)' =$$

$$7^\circ. (\cos x)' =$$

$$11^\circ. (\arccos x)' =$$

$$12^\circ. (\operatorname{arctg} x)' =$$

$$13^\circ. (\operatorname{arcctg} x)' =$$

ПРАВИЛА ДИФФЕРЕНЦИРОВАНИЯ

$$14^\circ. (u + v)' =$$

$$15^\circ. (u - v)' =$$

$$16^\circ. (uv)' =$$

$$18^\circ. \left(\frac{u}{v}\right)' =$$

В частности, $\left(\frac{1}{v}\right)' =$

ПРОИЗВОДНАЯ СЛОЖНОЙ ФУНКЦИИ

$$19^\circ. f(\varphi(x))' =$$

6.7.2. Время на выполнение: 15 мин.

6.7.3. Перечень объектов контроля и оценки

Наименование объектов контроля и оценки	Основные показатели оценки результата	Оценка
Знание основных методов математического анализа, аналитической геометрии, линейной алгебры, элементарной теории вероятностей	- Формулировка правил дифференцирования и перечисление производных основных элементарных функций	28 баллов

За правильный ответ на вопросы или верное решение задачи выставляется положительная оценка – 1 балл.

За неправильный ответ на вопросы или неверное решение задачи выставляется отрицательная оценка – 0 баллов.

6.8. Расчетное задание

6.8.1. Текст задания

Исследовать функцию и построить ее график.

Вариант 1

$$f(x) = x^2 - 2x + 8.$$

Вариант 2

$$f(x) = -\frac{2x^2}{3} + x + \frac{2}{3}.$$

Вариант 3

$$f(x) = -x^2 + 5x + 4.$$

Вариант 4

$$f(x) = \frac{x^2}{4} + \frac{x}{16} + \frac{1}{4}.$$

Вариант 5

$$f(x) = -x^3 + 3x - 2.$$

Вариант 6

$$f(x) = x^4 - 2x^2 - 3.$$

Вариант 7

$$f(x) = x^3 + 3x + 2.$$

Вариант 8

$$f(x) = 3x^2 - x^3.$$

6.8.2. Время на выполнение: 20 мин.

6.8.3. Перечень объектов контроля и оценки

Наименование объектов контроля и оценки	Основные показатели оценки результата	Оценка
У 1. Умение решать задачи математического анализа, линейной алгебры и аналитической геометрии	- Исследование функции и построение графика	1 балл

За правильный ответ на вопросы или верное решение задачи выставляется положительная оценка – 1 балл.

За неправильный ответ на вопросы или неверное решение задачи выставляется отрицательная оценка – 0 баллов.

6.9. Расчетное задание

6.9.1. Текст задания

Вариант 1

Найти неопределенные интегралы методом непосредственного интегрирования (для № 1-5).

$$10. \int \left(5 \cos x - 3x^2 + \frac{1}{x} \right) dx.$$

$$11. \int \frac{3x^8 - x^5 + x^4}{x^5} dx.$$

$$12. \int (6^x \cdot 3^{2x} - 4) dx.$$

$$13. \int \left(\frac{1}{\cos^2 x} + \frac{1}{\sqrt{1-x^2}} \right) dx.$$

$$14. \int \frac{dx}{1+16x^2}.$$

Найти неопределенные интегралы методом подстановки (для № 6-8).

$$15. \int (8x-4)^3 dx.$$

$$16. \int \frac{3x^{12} + 5x^3 + 5}{3} dx.$$

$$17. \int x^5 \cdot e^{x^6} dx.$$

18. Найти неопределенный интеграл методом интегрирования по частям:

$$\int (x+5) \cos x dx.$$

Вариант 2

Найти неопределенные интегралы методом непосредственного интегрирования (для № 1-5).

$$10. \int \left(6 \sin x + 4x^3 - \frac{1}{x} \right) dx.$$

$$11. \int \frac{x^9 - 3x^7 + 2x^6}{x^7} dx.$$

$$12. \int (7^x \cdot 1^{2x} + 5) dx.$$

$$13. \int \left(\frac{1}{1+x^2} + \frac{1}{\sin^2 x} \right) dx.$$

$$14. \int \frac{dx}{\sqrt{4e^{9x^2}}}.$$

Найти неопределенные интегралы методом подстановки (для № 6-8).

$$15. \int (7x+5)^4 dx.$$

$$16. \int \frac{18x^2 - 3}{6x^3 - 3x + 8} dx.$$

$$17. \int x^7 \cdot e^{x^8} dx.$$

18. Найти неопределенный интеграл методом интегрирования по частям:

$$\int (x-2) \sin x dx.$$

6.9.2. Время на выполнение: 60 мин.

6.9.3. Перечень объектов контроля и оценки

Наименование объектов контроля и оценки	Основные показатели оценки результата	Оценка
У 1. Умение решать задачи математического анализа, линейной алгебры и аналитической геометрии	- Нахождение неопределенных интегралов	9 баллов

За правильный ответ на вопросы или верное решение задачи выставляется положительная оценка – 1 балл.

За неправильный ответ на вопросы или неверное решение задачи выставляется отрицательная оценка – 0 баллов.

6.10. Устный ответ

6.10.1. Текст задания

Записать табличные интегралы:

1°. $\int 0 dx =$

2°. $\int x^a dx =$

В частности, $\int dx =$

3°. $\int \frac{dx}{x} =$

4°. $\int a^x dx =$

В частности, $\int e^x dx =$

5°. $\int \cos x dx =$

6°. $\int \sin x dx =$

7°. $\int \frac{dx}{\cos^2 x} =$

8°. $\int \frac{dx}{\sin^2 x} =$

9°. $\int \frac{dx}{\sqrt{a^2 - x^2}} =$

В частности, $\int \frac{dx}{\sqrt{1 - x^2}} =$

10°. $\int \frac{dx}{a^2 + x^2} =$

В частности, $\int \frac{dx}{1 + x^2} =$

6.10.2. Время на выполнение: 10 мин.

6.10.3. Перечень объектов контроля и оценки

Наименование объектов контроля и оценки	Основные показатели оценки результата	Оценка
З 1. Знание основных методов математического анализа, аналитической геометрии, линейной алгебры, элементарной теории вероятностей	- Перечисление табличных интегралов	14 баллов

За правильный ответ на вопросы или верное решение задачи выставляется положительная оценка – 1 балл.

За неправильный ответ на вопросы или неверное решение задачи выставляется отрицательная оценка – 0 баллов.

6.11. Расчетное задание

6.11.1. Текст задания

Вариант 1

- Вычислить определенный интеграл: $\int_0^2 (4x^2 + x - 3) dx$.
- Вычислить определенный интеграл методом подстановки: $\int_2^3 (2x - 1)^3 dx$.
- Вычислить, предварительно сделав рисунок, площадь фигуры, ограниченной линиями: $y = -x^2 + 4$, $y = 0$, $x = -2$, $x = 2$.
- Найти объем тела, полученного при вращении вокруг оси абсцисс криволинейной трапеции, ограниченной линиями: $y = \sqrt{x}$, $y = 0$, $x = 1$, $x = 4$.
- Скорость движения точки изменяется по закону $v = 3t^2 + 2t + 1$ (м/с). Найти путь S , пройденный точкой за 10 с от начала движения.

Вариант 2

- Вычислить определенный интеграл: $\int_0^3 (2x^2 - x + 4) dx$.
- Вычислить определенный интеграл методом подстановки: $\int_0^1 (3x + 1)^4 dx$.
- Вычислить, предварительно сделав рисунок, площадь фигуры, ограниченной линиями: $y = -x^2 + 1$, $y = 0$, $x = -1$, $x = 1$.
- Найти объем тела, полученного при вращении вокруг оси абсцисс криволинейной трапеции, ограниченной линиями: $y = \sqrt{x}$, $y = 0$, $x = 0$, $x = 1$.
- Скорость движения точки изменяется по закону $v = 9t^2 - 8t$ (м/с). Найти путь S , пройденный точкой за четвертую секунду.

6.11.2. Время на выполнение: 40 мин.

6.11.3. Перечень объектов контроля и оценки

Наименование объектов контроля и оценки	Основные показатели оценки результата	Оценка
У 1. Умение решать задачи математического анализа, линейной алгебры и аналитической геометрии	- Вычисление определенных интегралов	5 баллов
З 2. Знание математических моделей простейших систем и процессов в естествознании и технике	- Приложение определенного интеграла к вычислению площадей плоских фигур, объемов тел вращения, пути, пройденного точкой	

За правильный ответ на вопросы или верное решение задачи выставляется положительная оценка – 1 балл.

За неправильный ответ на вопросы или неверное решение задачи выставляется отрицательная оценка – 0 баллов.

6.12. Расчетное задание

6.12.1. Текст задания

Вариант 1

Найти частные производные функций.

4. $z = x \cdot \ln y + \frac{y}{x}$.

5. $z = \ln(x^2 + 2y^3)$.

6. $z = (1 + x^2)^y$.

Вариант 2

Найти частные производные функций.

4. $z = x^y$.

5. $z = x^3 y^2 - 2xy^3$.

6. $z = \ln^x y$.

6.12.2. Время на выполнение: 25 мин.

6.12.3. Перечень объектов контроля и оценки

Наименование объектов контроля и оценки	Основные показатели оценки результата	Оценка
---	---------------------------------------	--------

У 1. Умение решать задачи математического анализа, линейной алгебры и аналитической геометрии	- Нахождение частных производных	3 балла
---	----------------------------------	---------

За правильный ответ на вопросы или верное решение задачи выставляется положительная оценка – 1 балл.

За неправильный ответ на вопросы или неверное решение задачи выставляется отрицательная оценка – 0 баллов.

6.13. Расчетное задание

6.13.1. Текст задания

Вариант 1

Являются ли данные функции решениями данных дифференциальных уравнений (для № 1-4).

$$13. y = c_1 e^{-5x} + c_2 e^x, \quad y' + 4y' - 5y = 0.$$

$$14. y = c_1 e^x + c_2 x e^x, \quad y' + 2y' + y = 0.$$

$$15. y = \frac{8}{x}, \quad y' = -\frac{1}{8} y^2.$$

$$16. y = e^{4x} + 2, \quad y' = 4y.$$

$$17. \text{ Решить задачу Коши: } y' = 4x^3 - 2x + 5, \quad y(1) = 8.$$

Решить следующие дифференциальные уравнения первого и второго порядка (для № 6-12).

$$18. y' = \frac{1}{\cos^2 x} + x^4.$$

$$19. y' = -6y.$$

$$20. y' = \frac{x-1}{y^2}.$$

$$21. y' = \frac{y}{\sqrt{1-x^2}}.$$

$$22. y' - 3y + 5 = 0.$$

$$23. y' - 7y' + 10y = 0.$$

$$24. y' + 4y' + 4y = 0.$$

Вариант 2

Являются ли данные функции решениями данных дифференциальных уравнений (для № 1-4).

$$13. y = c_1 e^{-2x} + c_2 x e^{-2x}, \quad y' + 4y' + 4y = 0.$$

$$14. y = c_1 e^{3x} + c_2 e^x, \quad y' - y' - 6y = 0.$$

$$15. y = e^{\frac{3x}{5}} - 5, \quad y' = 3y + 15.$$

$$16. y = \frac{1}{x}, \quad y' = -y^2.$$

$$17. \text{ Решить задачу Коши: } y' = 3x^2 - 2x + 6, \quad y(2) = 19.$$

Решить следующие дифференциальные уравнения первого и второго порядка (для № 6-12).

$$18. y' = \frac{1}{\sqrt{1-x^2}} - x^7.$$

$$19. y' = 8y.$$

$$20. y' = \frac{2x}{y^2}.$$

$$21. y' = \frac{y}{1+x^2}.$$

$$22. y' + 8y - 3 = 0.$$

$$23. y' + 8y' + 16y = 0.$$

$$24. y' - y' - 12y = 0.$$

6.13.2. Время на выполнение: 80 мин.

6.13.3. Перечень объектов контроля и оценки

Наименование объектов контроля и оценки	Основные показатели оценки результата	Оценка
У 2. Умение применять различные методы для решения обыкновенных дифференциальных уравнений и их систем	- Решение дифференциальных уравнений первого и второго порядка	12 баллов

За правильный ответ на вопросы или верное решение задачи выставляется положительная оценка – 1 балл.

За неправильный ответ на вопросы или неверное решение задачи выставляется отрицательная оценка – 0 баллов.

6.14. Устный ответ

6.14.1. Текст задания

- Сформулировать общие положения при составлении дифференциального уравнения по условию задачи.
- Записать дифференциальное уравнение показательного роста и показательного убывания и получить его решение. Привести примеры прикладных задач, решаемых с его помощью.
- Сформулировать задачу о радиоактивном распаде, записать для нее дифференциальное уравнение.
- Сформулировать задачу о гармонических колебаниях, записать дифференциальное уравнение гармонических колебаний.
- Сформулировать задачу о падении тел в атмосферной среде, записать для нее дифференциальное уравнение.

6.14.2. Время на выполнение: 30 мин.

6.14.3. Перечень объектов контроля и оценки

Наименование объектов	Основные показатели	Оценка
-----------------------	---------------------	--------

контроля и оценки	оценки результата	
З 2. Знание математических моделей простейших систем и процессов в естествознании и технике	- Описание процессов в естествознании и технике с помощью дифференциальных уравнений	5 баллов

За правильный ответ на вопросы или верное решение задачи выставляется положительная оценка – 1 балл.

За неправильный ответ на вопросы или неверное решение задачи выставляется отрицательная оценка – 0 баллов.

6.15. Расчетное задание

6.15.1. Текст задания

5. Пользуясь необходимым признаком сходимости, показать, что ряд

$$1 + \frac{1}{2} + \frac{2}{3} + \frac{3}{4} + \dots + \frac{n}{n+1} + \dots$$

расходится.

6. С помощью признака Даламбера решить вопрос о сходимости ряда

$$\frac{1}{3} + \frac{2}{3^2} + \frac{3}{3^3} + \dots + \frac{n}{3^n} + \dots$$

7. Пользуясь признаком Лейбница, исследовать на сходимость знакопередающийся ряд

$$1 - \frac{1}{2} + \frac{1}{3} - \frac{1}{4} + \dots + (-1)^{n-1} \frac{1}{n} + \dots$$

8. Пользуясь признаком сходимости знакопеременного ряда, исследовать на сходимость ряд

$$1 - \frac{1}{2!} + \frac{1}{3!} - \frac{1}{4!} + \dots + (-1)^{n-1} \frac{1}{n!} + \dots$$

6.15.2. Время на выполнение: 30 мин.

6.15.3. Перечень объектов контроля и оценки

Наименование объектов контроля и оценки	Основные показатели оценки результата	Оценка
У 1. Умение решать задачи математического анализа, линейной алгебры и аналитической геометрии	- Исследование рядов на сходимость	4 балла

За правильный ответ на вопросы или верное решение задачи выставляется положительная оценка – 1 балл.

За неправильный ответ на вопросы или неверное решение задачи выставляется отрицательная оценка – 0 баллов.

Вопросы дифференцированного зачета

34. Матрицы, действия над матрицами.
35. Определители 1-го, 2-го, 3-го порядков. Правило треугольников.
36. Определители n -го порядка. Теорема Лапласа.
37. Обратная матрица. Алгоритм нахождения обратной матрицы.
38. Ранг матрицы. Алгоритм вычисления ранга матрицы с помощью элементарных преобразований.
39. Система линейных уравнений. Метод обратной матрицы. Формулы Крамера. Метод Гаусса.
40. Векторы и операции над ними.
41. Проекция вектора на ось и ее свойства.
42. Декартова прямоугольная система координат. Полярная система координат.
43. Скалярное, векторное и смешанное произведения векторов.
44. Предел функции в точке. Основные теоремы о пределах.
45. Предел функции при x , стремящемся к бесконечности. Замечательные пределы. Число e .
46. Непрерывность функции в точке и на промежутке. Точка непрерывности функции. Точка разрыва функции. Свойства непрерывных функций. Приращение аргумента. Приращение функции.
47. Производная функции. Дифференциал функции. Геометрический смысл производной. Механический смысл производной.
48. Таблица производных. Понятие сложной функции. Производная сложной функции.
49. Схема исследования функции. Область определения функции. Множество значений функции. Четность и нечетность функции. Нули функции. Промежутки знакопостоянства функции. Возрастание и убывание функции, правило нахождения промежутков монотонности. Точки экстремума функции, правило нахождения экстремумов функции.
50. Производные высших порядков. Физический смысл второй производной. Исследование функции с помощью второй производной.
51. Первообразная. Неопределенный интеграл. Основные свойства неопределенного интеграла.
52. Таблица неопределенных интегралов.
53. Методы интегрирования: метод непосредственного интегрирования; метод замены переменной (метод подстановки); метод интегрирования по частям.
54. Определенный интеграл. Понятие интегральной суммы. Достаточное условие существования определенного интеграла (интегрируемости функции).
55. Основные свойства определенного интеграла. Геометрический смысл определенного интеграла.
56. Методы вычисления определенных интегралов. Формула Ньютона-Лейбница.
57. Геометрические и физические приложения определенного интеграла.
58. Функции нескольких переменных. Частные производные.
59. Понятие дифференциального уравнения. Общее и частное решение дифференциального уравнения. Интегральные кривые. Задача Коши.
60. Задачи, приводящие к дифференциальным уравнениям.
61. Методы решения дифференциальных уравнений.
62. Понятие числового ряда. Сходимость и расходимость числовых рядов.
63. Необходимый признак сходимости ряда. Признак сравнения. Признак Даламбера.
64. Понятие знакочередующегося ряда. Признак сходимости Лейбница.
65. Абсолютная и условная сходимость знакпеременного ряда.
66. Функциональные ряды. Степенные ряды. Область сходимости степенного ряда. Разложение элементарных функций в ряд Маклорена.

Задания дифференцированного зачета

28. Вычислить предел $\lim_{x \rightarrow \infty} \left(1 + \frac{7}{3x}\right)^{5x}$.
29. Вычислить пределы:
 а) $\lim_{x \rightarrow \infty} \frac{5x^4 - x^3 + 1}{2x^4 + x}$; б) $\lim_{x \rightarrow \infty} \frac{x^3 + 2x}{x^2 - 4}$; в) $\lim_{x \rightarrow \infty} \frac{x^2 - 4}{x + 2x}$.
30. Вычислить предел $\lim_{x \rightarrow 0} \frac{\sin 17x}{\sin 5x}$.
31. Вычислить предел $\lim_{x \rightarrow 0} \frac{3x}{3x^2 + x}$.
32. Вычислить предел $\lim_{x \rightarrow 0} \frac{x^2 - 2x}{x^2 - 10x + 16}$.
33. Вычислить предел $\lim_{x \rightarrow 8} \frac{x - 8}{x - 8}$.
34. Исследовать функцию $f(x) = \frac{5x}{x - 6}$ на непрерывность в точке $x_0 = 6$.
35. Исследовать функцию $f(x) = 3x^2 - x^3$ и построить ее график.
36. Вычислить значение производной следующих функций в точке $x_0 = 4$:
 а) $f(x) = 8x^2 - \ln x$; б) $f(x) = x^3 + 5x$.
37. Найти производную функции $y = (x^4 - 5x^2 + x)^7$.
38. Найти производную функции $y = \frac{11x - 8}{2x + 4}$.
39. Найти производную функции $y = e^{2x^5 - 8}$.
40. Найти производную функции $y = \ln \left(\frac{8x^4 - 3x^2 + 2}{4 - x^3 + x^2 - 2x} \right)$.
41. Найти неопределенный интеграл $\int \frac{1}{x} dx$.
42. Найти неопределенный интеграл методом замены переменной $\int x^2 \cdot e^{x^3} dx$.
43. Найти неопределенный интеграл методом замены переменной $\int (6x + 11)^4 dx$.
44. Найти неопределенный интеграл методом замены переменной $\int \cos(6x - 1) dx$.
45. Найти неопределенный интеграл методом замены переменной $\int \sin^6 x \cdot \cos x dx$.
46. Вычислить определенный интеграл $\int_0^3 (5x + 1) dx$.
47. Вычислить определенный интеграл $\int_0^1 \frac{(x - 5)x dx}{2x^3 + x^4}$.
48. Вычислить определенный интеграл $\int_0^1 \frac{1}{x^2} dx$.
49. Скорость движения точки изменяется по закону $v = 5t^2 + 4t + 2$ (м/с). Найти путь s , пройденный точкой за 4 с от начала движения.

50. Вычислить объем тела, полученного от вращения фигуры, ограниченной линиями $y = x^2$, $y = 0$, $x = 1$, $x = 3$, вокруг оси Ox .
51. Вычислить площадь фигуры, ограниченной линиями $y = x^2$, $y = 0$, $x = 1$, $x = 2$.
52. Решить дифференциальное уравнение $y' - 9y' + 20y = 0$.
53. Решить задачу Коши: $y' = 6x^2 + 4x$, $y(1) = 9$.
54. Решить дифференциальное уравнение $y' = 11x$.

Шкала оценки образовательных достижений

Процент результативности (правильных ответов)	Оценка уровня подготовки	
	балл (отметка)	вербальный аналог
90 ÷ 100	5	отлично
80 ÷ 89	4	хорошо
70 ÷ 79	3	удовлетворительно
менее 70	2	неудовлетворительно

Оформление тем для эссе (рефератов, докладов, сообщений)

МИНОБРНАУКИ РОССИИ
Федеральное государственное бюджетное образовательное учреждение высшего профессионального образования
«ВЛАДИВОСТОКСКИЙ ГОСУДАРСТВЕННЫЙ УНИВЕРСИТЕТ ЭКОНОМИКИ И СЕРВИСА»
Колледж сервиса и дизайна ВГУЭС

Темы рефератов (докладов, сообщений)

по дисциплине _____
для специальности _____

1.....

2

3.....

n.....

Критерии оценки:

- оценка «отлично» выставляется обучающемуся, если
- оценка «хорошо»
- оценка «удовлетворительно»
- оценка «неудовлетворительно»
- оценка «зачтено» выставляется обучающемуся, если .
- оценка «не зачтено»

Преподаватель _____ И.О. Фамилия
(подпись)

« » 20 г.